

入試問題集

2020

【推薦入試／一般入試】

《全制度・全日程 出題傾向を統一》

桃山学院大学と桃山学院教育大学は
「推薦入試（前期・後期）」「一般入試」において
同一試験問題で実施します。



桃山学院大学
St. Andrew's University



桃山学院教育大学
St. Andrew's University of Education

本冊子に掲載していない過去問題を下記に掲載しています。
対策も掲載していますので、ぜひご活用ください。

＜大学受験パスナビ 桃山学院大学ページ＞

https://passnavi.evidus.com/search_univ/4350/kakomon.html

※桃山学院大学、桃山学院教育大学の過去問題掲載



桃山学院大学と桃山学院教育大学は、
「推薦入試(前期・後期)」「一般入試」において同一試験問題で実施しております。
過去問題につきましては、上記の桃山学院大学ページをご確認ください。

2020年度

入 試 問 題 集

推薦入試／一般入試

解答用紙見本

- 数 学 ————— P.2～P.17
- 日本史 ————— P.20～P.39
- 世界史 ————— P.42～P.59
- 小論文試験問題 ————— P.62
- 解答例 ————— P.64～P.65

解
答
用
紙

数

学

日
本
史

世
界
史

小
論
文
試
験
問
題

解
答
例

解答用紙

注意事項

1. 記入には、必ずHBの黒鉛筆を使用してください。
2. 訂正は、消しゴムできれいに消し、消しくずを残さないでください。
3. 所定欄以外には記入しないでください。
4. 汚したり、折りまけたりしないでください。

良い例	悪い例
●	◎ ⊗ ⊕ ○

丸マーク
(監督者記入)

フリガナ	
氏名	

受験番号を記入し、①～③の順に該当箇所をマークしてください。

① 受験番号		② 入試制度・試験日	
0	0	11月11日	○
0	0	11月12日	○
1	1	12月7日	○
2	2	2月2日	○
3	3	2月3日	○
4	4	2月4日	○
5	5	2月24日	○
6	6	3月11日	○
7	7		
8	8		
9	9		

③ 科目	
○	英語
○	国語
○	数学
○	日本史
○	世界史
○	現代社会 政治経済

総号 番号	解 答 欄	総号 番号	解 答 欄	総号 番号	解 答 欄
1	㊦ ㊧ ㊨ ㊩ ㊪ ㊫ ㊬ ㊭ ㊮ ㊯ ㊰ ㊱ ㊲ ㊳ ㊴ ㊵ ㊶ ㊷ ㊸ ㊹ ㊺ ㊻ ㊼ ㊽ ㊾ ㊿	16	㊦ ㊧ ㊨ ㊩ ㊪ ㊫ ㊬ ㊭ ㊮ ㊯ ㊰ ㊱ ㊲ ㊳ ㊴ ㊵ ㊶ ㊷ ㊸ ㊹ ㊺ ㊻ ㊼ ㊽ ㊾ ㊿	31	㊦ ㊧ ㊨ ㊩ ㊪ ㊫ ㊬ ㊭ ㊮ ㊯ ㊰ ㊱ ㊲ ㊳ ㊴ ㊵ ㊶ ㊷ ㊸ ㊹ ㊺ ㊻ ㊼ ㊽ ㊾ ㊿
2	㊦ ㊧ ㊨ ㊩ ㊪ ㊫ ㊬ ㊭ ㊮ ㊯ ㊰ ㊱ ㊲ ㊳ ㊴ ㊵ ㊶ ㊷ ㊸ ㊹ ㊺ ㊻ ㊼ ㊽ ㊾ ㊿	17	㊦ ㊧ ㊨ ㊩ ㊪ ㊫ ㊬ ㊭ ㊮ ㊯ ㊰ ㊱ ㊲ ㊳ ㊴ ㊵ ㊶ ㊷ ㊸ ㊹ ㊺ ㊻ ㊼ ㊽ ㊾ ㊿	32	㊦ ㊧ ㊨ ㊩ ㊪ ㊫ ㊬ ㊭ ㊮ ㊯ ㊰ ㊱ ㊲ ㊳ ㊴ ㊵ ㊶ ㊷ ㊸ ㊹ ㊺ ㊻ ㊼ ㊽ ㊾ ㊿
3	㊦ ㊧ ㊨ ㊩ ㊪ ㊫ ㊬ ㊭ ㊮ ㊯ ㊰ ㊱ ㊲ ㊳ ㊴ ㊵ ㊶ ㊷ ㊸ ㊹ ㊺ ㊻ ㊼ ㊽ ㊾ ㊿	18	㊦ ㊧ ㊨ ㊩ ㊪ ㊫ ㊬ ㊭ ㊮ ㊯ ㊰ ㊱ ㊲ ㊳ ㊴ ㊵ ㊶ ㊷ ㊸ ㊹ ㊺ ㊻ ㊼ ㊽ ㊾ ㊿	33	㊦ ㊧ ㊨ ㊩ ㊪ ㊫ ㊬ ㊭ ㊮ ㊯ ㊰ ㊱ ㊲ ㊳ ㊴ ㊵ ㊶ ㊷ ㊸ ㊹ ㊺ ㊻ ㊼ ㊽ ㊾ ㊿
4	㊦ ㊧ ㊨ ㊩ ㊪ ㊫ ㊬ ㊭ ㊮ ㊯ ㊰ ㊱ ㊲ ㊳ ㊴ ㊵ ㊶ ㊷ ㊸ ㊹ ㊺ ㊻ ㊼ ㊽ ㊾ ㊿	19	㊦ ㊧ ㊨ ㊩ ㊪ ㊫ ㊬ ㊭ ㊮ ㊯ ㊰ ㊱ ㊲ ㊳ ㊴ ㊵ ㊶ ㊷ ㊸ ㊹ ㊺ ㊻ ㊼ ㊽ ㊾ ㊿	34	㊦ ㊧ ㊨ ㊩ ㊪ ㊫ ㊬ ㊭ ㊮ ㊯ ㊰ ㊱ ㊲ ㊳ ㊴ ㊵ ㊶ ㊷ ㊸ ㊹ ㊺ ㊻ ㊼ ㊽ ㊾ ㊿
5	㊦ ㊧ ㊨ ㊩ ㊪ ㊫ ㊬ ㊭ ㊮ ㊯ ㊰ ㊱ ㊲ ㊳ ㊴ ㊵ ㊶ ㊷ ㊸ ㊹ ㊺ ㊻ ㊼ ㊽ ㊾ ㊿	20	㊦ ㊧ ㊨ ㊩ ㊪ ㊫ ㊬ ㊭ ㊮ ㊯ ㊰ ㊱ ㊲ ㊳ ㊴ ㊵ ㊶ ㊷ ㊸ ㊹ ㊺ ㊻ ㊼ ㊽ ㊾ ㊿	35	㊦ ㊧ ㊨ ㊩ ㊪ ㊫ ㊬ ㊭ ㊮ ㊯ ㊰ ㊱ ㊲ ㊳ ㊴ ㊵ ㊶ ㊷ ㊸ ㊹ ㊺ ㊻ ㊼ ㊽ ㊾ ㊿
6	㊦ ㊧ ㊨ ㊩ ㊪ ㊫ ㊬ ㊭ ㊮ ㊯ ㊰ ㊱ ㊲ ㊳ ㊴ ㊵ ㊶ ㊷ ㊸ ㊹ ㊺ ㊻ ㊼ ㊽ ㊾ ㊿	21	㊦ ㊧ ㊨ ㊩ ㊪ ㊫ ㊬ ㊭ ㊮ ㊯ ㊰ ㊱ ㊲ ㊳ ㊴ ㊵ ㊶ ㊷ ㊸ ㊹ ㊺ ㊻ ㊼ ㊽ ㊾ ㊿	36	㊦ ㊧ ㊨ ㊩ ㊪ ㊫ ㊬ ㊭ ㊮ ㊯ ㊰ ㊱ ㊲ ㊳ ㊴ ㊵ ㊶ ㊷ ㊸ ㊹ ㊺ ㊻ ㊼ ㊽ ㊾ ㊿
7	㊦ ㊧ ㊨ ㊩ ㊪ ㊫ ㊬ ㊭ ㊮ ㊯ ㊰ ㊱ ㊲ ㊳ ㊴ ㊵ ㊶ ㊷ ㊸ ㊹ ㊺ ㊻ ㊼ ㊽ ㊾ ㊿	22	㊦ ㊧ ㊨ ㊩ ㊪ ㊫ ㊬ ㊭ ㊮ ㊯ ㊰ ㊱ ㊲ ㊳ ㊴ ㊵ ㊶ ㊷ ㊸ ㊹ ㊺ ㊻ ㊼ ㊽ ㊾ ㊿	37	㊦ ㊧ ㊨ ㊩ ㊪ ㊫ ㊬ ㊭ ㊮ ㊯ ㊰ ㊱ ㊲ ㊳ ㊴ ㊵ ㊶ ㊷ ㊸ ㊹ ㊺ ㊻ ㊼ ㊽ ㊾ ㊿
8	㊦ ㊧ ㊨ ㊩ ㊪ ㊫ ㊬ ㊭ ㊮ ㊯ ㊰ ㊱ ㊲ ㊳ ㊴ ㊵ ㊶ ㊷ ㊸ ㊹ ㊺ ㊻ ㊼ ㊽ ㊾ ㊿	23	㊦ ㊧ ㊨ ㊩ ㊪ ㊫ ㊬ ㊭ ㊮ ㊯ ㊰ ㊱ ㊲ ㊳ ㊴ ㊵ ㊶ ㊷ ㊸ ㊹ ㊺ ㊻ ㊼ ㊽ ㊾ ㊿	38	㊦ ㊧ ㊨ ㊩ ㊪ ㊫ ㊬ ㊭ ㊮ ㊯ ㊰ ㊱ ㊲ ㊳ ㊴ ㊵ ㊶ ㊷ ㊸ ㊹ ㊺ ㊻ ㊼ ㊽ ㊾ ㊿
9	㊦ ㊧ ㊨ ㊩ ㊪ ㊫ ㊬ ㊭ ㊮ ㊯ ㊰ ㊱ ㊲ ㊳ ㊴ ㊵ ㊶ ㊷ ㊸ ㊹ ㊺ ㊻ ㊼ ㊽ ㊾ ㊿	24	㊦ ㊧ ㊨ ㊩ ㊪ ㊫ ㊬ ㊭ ㊮ ㊯ ㊰ ㊱ ㊲ ㊳ ㊴ ㊵ ㊶ ㊷ ㊸ ㊹ ㊺ ㊻ ㊼ ㊽ ㊾ ㊿	39	㊦ ㊧ ㊨ ㊩ ㊪ ㊫ ㊬ ㊭ ㊮ ㊯ ㊰ ㊱ ㊲ ㊳ ㊴ ㊵ ㊶ ㊷ ㊸ ㊹ ㊺ ㊻ ㊼ ㊽ ㊾ ㊿
10	㊦ ㊧ ㊨ ㊩ ㊪ ㊫ ㊬ ㊭ ㊮ ㊯ ㊰ ㊱ ㊲ ㊳ ㊴ ㊵ ㊶ ㊷ ㊸ ㊹ ㊺ ㊻ ㊼ ㊽ ㊾ ㊿	25	㊦ ㊧ ㊨ ㊩ ㊪ ㊫ ㊬ ㊭ ㊮ ㊯ ㊰ ㊱ ㊲ ㊳ ㊴ ㊵ ㊶ ㊷ ㊸ ㊹ ㊺ ㊻ ㊼ ㊽ ㊾ ㊿	40	㊦ ㊧ ㊨ ㊩ ㊪ ㊫ ㊬ ㊭ ㊮ ㊯ ㊰ ㊱ ㊲ ㊳ ㊴ ㊵ ㊶ ㊷ ㊸ ㊹ ㊺ ㊻ ㊼ ㊽ ㊾ ㊿
11	㊦ ㊧ ㊨ ㊩ ㊪ ㊫ ㊬ ㊭ ㊮ ㊯ ㊰ ㊱ ㊲ ㊳ ㊴ ㊵ ㊶ ㊷ ㊸ ㊹ ㊺ ㊻ ㊼ ㊽ ㊾ ㊿	26	㊦ ㊧ ㊨ ㊩ ㊪ ㊫ ㊬ ㊭ ㊮ ㊯ ㊰ ㊱ ㊲ ㊳ ㊴ ㊵ ㊶ ㊷ ㊸ ㊹ ㊺ ㊻ ㊼ ㊽ ㊾ ㊿	41	㊦ ㊧ ㊨ ㊩ ㊪ ㊫ ㊬ ㊭ ㊮ ㊯ ㊰ ㊱ ㊲ ㊳ ㊴ ㊵ ㊶ ㊷ ㊸ ㊹ ㊺ ㊻ ㊼ ㊽ ㊾ ㊿
12	㊦ ㊧ ㊨ ㊩ ㊪ ㊫ ㊬ ㊭ ㊮ ㊯ ㊰ ㊱ ㊲ ㊳ ㊴ ㊵ ㊶ ㊷ ㊸ ㊹ ㊺ ㊻ ㊼ ㊽ ㊾ ㊿	27	㊦ ㊧ ㊨ ㊩ ㊪ ㊫ ㊬ ㊭ ㊮ ㊯ ㊰ ㊱ ㊲ ㊳ ㊴ ㊵ ㊶ ㊷ ㊸ ㊹ ㊺ ㊻ ㊼ ㊽ ㊾ ㊿	42	㊦ ㊧ ㊨ ㊩ ㊪ ㊫ ㊬ ㊭ ㊮ ㊯ ㊰ ㊱ ㊲ ㊳ ㊴ ㊵ ㊶ ㊷ ㊸ ㊹ ㊺ ㊻ ㊼ ㊽ ㊾ ㊿
13	㊦ ㊧ ㊨ ㊩ ㊪ ㊫ ㊬ ㊭ ㊮ ㊯ ㊰ ㊱ ㊲ ㊳ ㊴ ㊵ ㊶ ㊷ ㊸ ㊹ ㊺ ㊻ ㊼ ㊽ ㊾ ㊿	28	㊦ ㊧ ㊨ ㊩ ㊪ ㊫ ㊬ ㊭ ㊮ ㊯ ㊰ ㊱ ㊲ ㊳ ㊴ ㊵ ㊶ ㊷ ㊸ ㊹ ㊺ ㊻ ㊼ ㊽ ㊾ ㊿	43	㊦ ㊧ ㊨ ㊩ ㊪ ㊫ ㊬ ㊭ ㊮ ㊯ ㊰ ㊱ ㊲ ㊳ ㊴ ㊵ ㊶ ㊷ ㊸ ㊹ ㊺ ㊻ ㊼ ㊽ ㊾ ㊿
14	㊦ ㊧ ㊨ ㊩ ㊪ ㊫ ㊬ ㊭ ㊮ ㊯ ㊰ ㊱ ㊲ ㊳ ㊴ ㊵ ㊶ ㊷ ㊸ ㊹ ㊺ ㊻ ㊼ ㊽ ㊾ ㊿	29	㊦ ㊧ ㊨ ㊩ ㊪ ㊫ ㊬ ㊭ ㊮ ㊯ ㊰ ㊱ ㊲ ㊳ ㊴ ㊵ ㊶ ㊷ ㊸ ㊹ ㊺ ㊻ ㊼ ㊽ ㊾ ㊿	44	㊦ ㊧ ㊨ ㊩ ㊪ ㊫ ㊬ ㊭ ㊮ ㊯ ㊰ ㊱ ㊲ ㊳ ㊴ ㊵ ㊶ ㊷ ㊸ ㊹ ㊺ ㊻ ㊼ ㊽ ㊾ ㊿
15	㊦ ㊧ ㊨ ㊩ ㊪ ㊫ ㊬ ㊭ ㊮ ㊯ ㊰ ㊱ ㊲ ㊳ ㊴ ㊵ ㊶ ㊷ ㊸ ㊹ ㊺ ㊻ ㊼ ㊽ ㊾ ㊿	30	㊦ ㊧ ㊨ ㊩ ㊪ ㊫ ㊬ ㊭ ㊮ ㊯ ㊰ ㊱ ㊲ ㊳ ㊴ ㊵ ㊶ ㊷ ㊸ ㊹ ㊺ ㊻ ㊼ ㊽ ㊾ ㊿	45	㊦ ㊧ ㊨ ㊩ ㊪ ㊫ ㊬ ㊭ ㊮ ㊯ ㊰ ㊱ ㊲ ㊳ ㊴ ㊵ ㊶ ㊷ ㊸ ㊹ ㊺ ㊻ ㊼ ㊽ ㊾ ㊿





数 学



<大学受験パスナビ 桃山学院大学ページ>

https://passnavi.evidus.com/search_univ/4350/kakomon.html

※桃山学院大学、桃山学院教育大学の過去問題掲載



数学

解答番号 1 ~ 54

解答にあたっての注意事項

- ① 分数形で解答する場合、それ以上約分できない形で答えなさい。
- ② 根号を含む形で解答する場合、根号の中に現れる自然数が最小となる形で答えなさい。

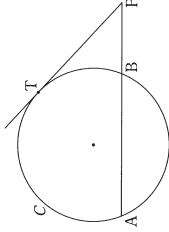
[I] 以下の空欄の [1] ~ [19] に入る数字を選択肢から 1 つずつ選びなさい。

- (1) $x = \sqrt{6} + \sqrt{3} + \sqrt{2}$, $y = \sqrt{6} - \sqrt{3} - \sqrt{2}$ のとき, $x^2 + 2xy + y^2 =$ [1] [2] である。 [1] · [2]
- (2) $AB = 4$, $AC = \sqrt{6}$, $\angle A = 60^\circ$ の $\triangle ABC$ の面積は [3] $\sqrt{[4]}$ である。 [3] · [4]
- (3) $\frac{5\sqrt{2}}{2\sqrt{3} - \sqrt{2}} = \sqrt{[5]} + [6]$ である。 [5] · [6]
- (4) $\triangle ABC$ があり, $AB = 15$, $BC = 27$, 面積は $140\sqrt{2}$, 内接円の半径は $4\sqrt{2}$ である。このとき, 辺 CA の長さは [7] [8] である。 [7] · [8]

(数学・第 [1] 問は次ページへ続く)

- (5) x の不等式 $3x - 6 < \frac{x}{3}$ ……①, $4 - \frac{2x-5}{3} < 5$ ……②がある。①と②をともに満たす x の値の範囲は [9] $< x <$ [10] \cdot [11] である。 [9] · [10] · [11]

- (6) 長さ 10 の線分 AB を弦にもつ円 C がある。線分 AB の B を越える延長上に, $BP = 5$ となる点 P をとる。このとき, 点 P から円 C に引いた接線の長さ, すなわち, 円の線分 PT の長さは, 方べきの定理により, [12] $\sqrt{[13]}$ である。 [12] · [13]



- (7) 1 個のさいころを 3 回投げける。「3 回のうち少なくとも 2 回同じ目が出る」という事象を A とすると, A の余事象は「3 回の目がすべて異なる」という事象である。よって, 事象 A が起こる確率は $\frac{[14]}{[15]}$ である。 [14] · [15]

- (8) グラフが座標軸上の 3 点 $(-2, 0)$, $(4, 0)$, $(0, -16)$ を通るような 2 次関数は $y = [16]x^2 - [17]x - [18] [19]$ である。 [16] · [17] · [18] · [19]

選択肢

ア	0	イ	1	ウ	2	エ	3	オ	4
カ	5	キ	6	ク	7	ケ	8	コ	9

〔II〕以下の文章を読み、空欄の 20～29 に入る数字を選択肢から1つずつ選びなさい。

$$f(x) = x^2 - 8x + 7 \text{ とし、} x \text{ の方程式 } f(x) = k \text{ がある。ただし、} k \text{ は実数の定数である。}$$

(1) $y = f(x)$ のグラフの頂点の座標は (20, -21) である。 20 · 21

(2) $k = 0$ のとき、方程式 $f(x) = k$ の解は、 $x = 22$, 23 である。ただし、 $22 < 23$ とする。 22 · 23

(3) 方程式 $f(x) = k$ の実数解は、 $y = f(x)$ のグラフと直線 $y = k$ との共有点の x 座標であるから、方程式 $f(x) = k$ が実数解をもつのは、 $k \geq -24$ のときである。 24

(数学・第〔II〕問は次ページへ続く)

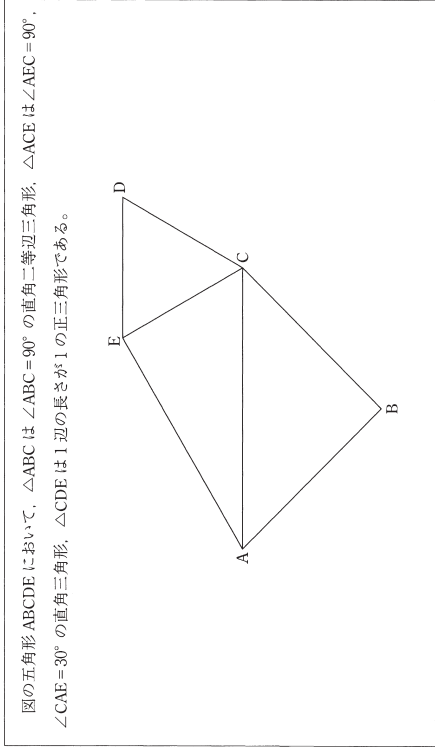
(4) $k = 0, 1, 2, \dots, 9$ として、10個の方程式 $f(x) = 0, f(x) = 1, f(x) = 2, \dots, f(x) = 9$ をつくる。この10個の方程式のいずれかを満たす実数 x のうちで、3番目に大きいものは $x = 25$ である。 25

(5) 方程式 $f(x) = k$ を満たす実数 x のうち、 $2 \leq x \leq 9$ を満たすものが1個だけあるのは、 $k = -26$, $-27 < k \leq 28$, 29 のときである。 26
27 · 28 · 29

選択肢

- | | | | | | | | | | |
|---|---|---|---|---|---|---|---|---|---|
| ア | 0 | イ | 1 | ウ | 2 | エ | 3 | オ | 4 |
| カ | 5 | キ | 6 | ク | 7 | ケ | 8 | コ | 9 |

〔Ⅲ〕 以下の文章を読み、空欄の 30～43 に入る数字を選択肢から 1 つずつ選びなさい。



図の五角形 ABCDE において、 $\triangle ABC$ は $\angle ABC = 90^\circ$ の直角二等辺三角形、 $\triangle ACE$ は $\angle AEC = 90^\circ$ 、 $\angle CAE = 30^\circ$ の直角三角形、 $\triangle CDE$ は 1 辺の長さが 1 の正三角形である。

(1) 五角形 ABCDE の面積は $\frac{30}{33} + \frac{31}{33}\sqrt{32}$ である。

30 · 31 · 32 · 33

(数学・第〔Ⅲ〕間は次ページへ続く)

M0(12-6)

(2) 四角形 ABCE は円に内接し、 $AB = BC$ であるから、直線 EB は $\angle AEC$ を 2 等分する。したがって、AC と EB の交点を F とすると、 $AF = \frac{34}{38} - \sqrt{\frac{35}{38}}$ である。さらに、 $\triangle AEF$ の $\triangle BEC$ であるから、

$$BE = \sqrt{\frac{36}{38}} + \sqrt{\frac{37}{38}} \text{ である。ただし、} \frac{36}{38} > \frac{37}{38} \text{ とする。}$$

34 · 35
36 · 37 · 38

(3) $\cos \angle BCE = \frac{\sqrt{\frac{39}{41}} - \sqrt{\frac{40}{41}}}{41}$ である。また、 $\triangle BDE$ に着目すると、線分 BD を 1 辺とする正方形の面積は $\frac{42}{42} + \sqrt{\frac{43}{42}}$ である。

$$\text{積は } \frac{39}{42} \cdot \frac{40}{42} \cdot \frac{41}{42} \text{ である。}$$

39 · 40 · 41
42 · 43

選択肢

- ア 0 イ 1 ウ 2 エ 3 オ 4
- カ 5 キ 6 ク 7 ケ 8 コ 9

M0(12-7)

[IV] 以下の文章を読み、空欄の [44] ~ [54] に入る数字を選択肢から1つずつ選びなさい。

白球 4 個、黒球 2 個、赤球 2 個の合計 8 個の球を横一列に並べる。ただし、同じ色の球は区別しない。

- (1) 球の並べ方は全部で [44] [45] [46] 通りある。 [44] · [45] · [46]
- (2) 両端が赤球である並べ方は [47] [48] 通りある。また、両端が白球である並べ方は [49] [50] 通りある。
 [47] · [48]
 [49] · [50]

(数学・第 [IV] 間は次ページへ続く)

M①(12-8)

(3) 条件「同じ色の球が隣り合わない」…… (*) を満たす並べ方を考える。

- (i) まず白球以外を左から 黒 赤 黒 赤 の順に一列に並べ、次に 4 個の白球をこの列に追加する場合、条件 (*) を満たす並べ方は [51] 通りある。 [51]
- (ii) まず白球以外を左から 黒 赤 黒 の順に一列に並べ、次に 4 個の白球をこの列に追加する場合、条件 (*) を満たす並べ方は [52] 通りある。 [52]
- (i), (ii) 以外にも、まず白球以外を並べ、次に条件 (*) を満たすように 4 個の白球を列に追加する並べ方を考える。これらをふまえて、条件 (*) を満たす並べ方は全部で [53] [54] 通りある。 [53] · [54]

選択肢

ア	0	イ	1	ウ	2	エ	3	オ	4
カ	5	キ	6	ク	7	ケ	8	コ	9

数学おわり 解答番号 [1] ~ [54]

M①(12-9)

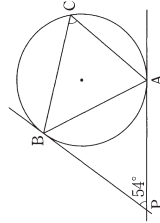
数 学
解答番号 1 ~ 55

解答にあたっての注意事項

- ① 分数形で解答する場合、それ以上約分できない形で答えなさい。
- ② 根号を含む形で解答する場合、根号の中に現れる自然数が最小となる形で答えなさい。

〔I〕 以下の空欄の 1 ~ 18 に入る数字を選択肢から1つずつ選びなさい。

- (1) $AB=9, BC=5, CA=7$ の $\triangle ABC$ において、 $\cos A = \frac{\text{1}}{\text{2}}$ である。 1 · 2
- (2) $(x-2)(x-1)(x+1)(x+2)$ を展開すると、 $x^4 - \text{3}x^2 + \text{4}$ になる。 3 · 4
- (3) 1 から 9 までの 9 個の数字から、異なる 6 個の数字を選ぶ選び方は 5 6 通りある。 5 · 6
- (4) 円上の点 A, B における円の接線が点 P で交わっており、 $\angle APB = 54^\circ$ である。このとき、図の $\angle ACB$ の大きさは 7 8 $^\circ$ である。 7 · 8



(数学・第〔I〕問は次ページへ続く)

(5) x の 2 次関数 $y=f(x)$ のグラフの頂点の座標は $(1, 2)$ であり、 $f(0)=5$ である。このとき、 $f(x) = \text{9}x^2 - \text{10}x + \text{11}$ である。 9 · 10 · 11

(6) $\triangle ABC$ において、 $BC=10, CA=9, \sin B = \frac{2}{5}$ である。このとき、正弦定理により、 $\sin A = \frac{\text{12}}{\text{13}}$ である。 12 · 13

(7) 次の図は、あるデータを箱ひげ図に表したものである。このデータの四分位偏差は 14 15 である。 14 · 15



(8) $3x^2+4x-4$ を因数分解すると、 $(x+\text{16})(\text{17}x-\text{18})$ になる。 16 · 17 · 18

選択肢

- ア 0 イ 1 ウ 2 エ 3 オ 4
- カ 5 キ 6 ク 7 ケ 8 コ 9

〔II〕以下の文章を読み、空欄の 19～28 に入る数字を選択肢から 1 つずつ選びなさい。

a, b を定数とし、 $f(x) = x^2 - (2a+4)x + b$ とする。 $y = f(x)$ のグラフは点 (4, 3) を通る。

(1) $b = 19$ 、 $a + 20$ であり、 $y = f(x)$ のグラフの頂点の座標は $(a + 21, -a^2 + 22a - 23)$ である。

19・20
21・22・23

(2) $y = f(x)$ のグラフが x 軸と異なる 2 点で交わるのは、 $a < 24 - \sqrt{25}$ 、 $24 + \sqrt{25} < a$ のときである。

24・25

(数学・第〔II〕問は次ページへ続く)

(3) (2) のとき、 x の方程式 $f(x) = 0$ の異なる 2 つの実数解が、ともに 4 より大きくなるような最小の整数 a は 26 である。

26

(4) x の方程式 $f(x) = 0$ が異なる 2 つの実数解 α, β ($\alpha < \beta$) をもつ場合について考える。 $\beta - \alpha = 4$ となるのは、 $a = 27 \pm \sqrt{28}$ のときである。

27・28

選択肢

ア 0 イ 1 ウ 2 エ 3 オ 4
カ 5 キ 6 ク 7 ケ 8 コ 9

〔Ⅲ〕 以下の文章を読み、空欄の 29～43 に入る数字を選択肢から 1 つずつ選びなさい。

赤球 3 個、青球 2 個、黄球 1 個の合計 6 個の球が袋の中に入っている。この袋から球を 3 個同時に取り出し、取り出された球の色を確認する。

(1) 3 個とも赤球である確率は $\frac{29}{30}$ $\frac{30}{31}$ である。 29・30・31

(2) 赤球、青球、黄球が 1 個ずつである確率は $\frac{32}{33}$ $\frac{33}{34}$ である。 32・33・34

(数学・第〔Ⅲ〕問は次ページへ続く)

(3) 球の色がちょうど 2 種類である確率は $\frac{35}{37}$ $\frac{36}{38}$ である。 35・36・37・38

(4) 取り出された球について、赤球 1 個につき 1 点、青球 1 個につき 2 点、黄球 1 個につき 3 点を与えるものとする。このとき、合計得点が 5 点になる確率は $\frac{39}{40}$ $\frac{40}{41}$ である。また、合計得点が 5 点になる

ときに、黄球が取り出されている条件付き確率は $\frac{42}{43}$ である。 39・40・41
42・43

選択肢

- | | | | | | | | | | |
|---|---|---|---|---|---|---|---|---|---|
| ア | 0 | イ | 1 | ウ | 2 | エ | 3 | オ | 4 |
| カ | 5 | キ | 6 | ク | 7 | ケ | 8 | コ | 9 |

〔IV〕以下の文章を読み、空欄の 44～55 に入る数字を選択肢から 1 つずつ選びなさい。

鋭角三角形 ABC があり、 $\sin \angle BAC = \frac{\sqrt{55}}{8}$ 、 $AB = 12$ である。また、 $\triangle ABC$ の外接円 K の半径は $\frac{56}{\sqrt{55}}$ である。

(1) 辺 BC の長さは $\boxed{44} \cdot \boxed{45}$ である。

(2) $\cos \angle BAC = \frac{\boxed{46}}{\boxed{47}}$ である。また、辺 AC の長さは $\boxed{48} \cdot \boxed{49}$ である。

$\boxed{44} \cdot \boxed{45}$

$\boxed{46} \cdot \boxed{47}$
 $\boxed{48} \cdot \boxed{49}$

(数学・第 [IV] 問は次ページへ続く)

(3) $\triangle ABC$ の $\angle ABC$ の二等分線が辺 AC と交わる点を D とすると、 $AD = \boxed{50}$ 、 $BD = \boxed{51} \sqrt{\boxed{52} \cdot \boxed{53}}$ である。さらに、直線 BD が円 K と交わる点のうち、B でない方を E とすると、 $DE = \sqrt{\boxed{54} \cdot \boxed{55}}$ である。

$\boxed{50}$
 $\boxed{51} \cdot \boxed{52} \cdot \boxed{53}$
 $\boxed{54} \cdot \boxed{55}$

選択肢

ア 0 イ 1 ウ 2 エ 3 オ 4
 カ 5 キ 6 ク 7 ケ 8 コ 9

数 学

解答番号 1 ~ 53

解答にあたっての注意事項

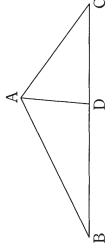
- ① 分数形で解答する場合、それ以上約分できない形で答えなさい。
- ② 根号を含む形で解答する場合、根号の中に現れる自然数が最小となる形で答えなさい。

[I] 以下の空欄の 1 ~ 17 に入る数字を選択肢から1つずつ選びなさい。

- (1) $\frac{\sqrt{6}}{\sqrt{18+\sqrt{12}}} = \sqrt{\text{[1]} - \sqrt{\text{[2]}}$ である。 1 · 2
- (2) 放物線 $y = (x+5)^2 + 1$ を x 軸方向に3、 y 軸方向に-4だけ平行移動した放物線の方程式は $y = x^2 + \text{[3]}x + \text{[4]}$ である。 3 · 4
- (3) $0^\circ \leq \theta \leq 180^\circ$ とする。 $\cos \theta = \frac{3}{4}$ のとき、 $\sin \theta = \frac{\sqrt{\text{[5]}}}{\text{[6]}}$ である。 5 · 6
- (4) A、B、C、Dの4人がじゃんけんを1回する。ちょうど2人が勝者となるような手の出し方は、全部で 7 8 通りある。

(数学・第 [I] 問は次ページへ続く)

- (5) $AB=28$, $AC=21$ の $\triangle ABC$ があり、 $\angle A$ の二等分線と辺 BC との交点を D とする。 $BD=24$ のとき、
 $CD = \text{[9]} \text{[10]}$ である。 9 · 10



- (6) x の方程式 $9-2|x-2|=3$ の解は $x = -\text{[11]}$, [12] である。 11 · 12
- (7) 集合 A , B , $A \cap B$ の要素の個数はそれぞれ8個, 9個, 4個である。このとき、集合 $A \cup B$ の要素の個数は 13 14 個である。 13 · 14
- (8) x の2次不等式 $3x^2 - 11x + 10 < 0$ の解は $\frac{\text{[15]}}{\text{[16]}} < x < \frac{\text{[17]}}{\text{[16]}}$ である。 15 · 16 · 17

選択肢

- | | | | | | | | | | |
|---|---|---|---|---|---|---|---|---|---|
| ア | 0 | イ | 1 | ウ | 2 | エ | 3 | オ | 4 |
| カ | 5 | キ | 6 | ク | 7 | ケ | 8 | コ | 9 |

〔II〕以下の文章を読み、空欄の18～28に入る数字を選択肢から1つずつ選びなさい。

a を定数とし、 x の2次関数 $f(x) = x^2 - 6ax + 9a^2 + 1$ がある。 $3 \leq x \leq 6$ における $f(x)$ の最大値を M 、最小値を m とする。

- (1) $y = f(x)$ のグラフの頂点の座標は $(18a, 19)$ である。 18 · 19
- (2) $y = f(x)$ のグラフの軸が直線 $x = \frac{9}{2}$ であるのは、 $a = \frac{20}{21}$ のときである。このとき、 $M = \frac{22}{23}$ 、 $m = \frac{20}{21}$ である。 20 · 21
22 · 23 · 24

(数学・第〔II〕問は次ページへ続く)

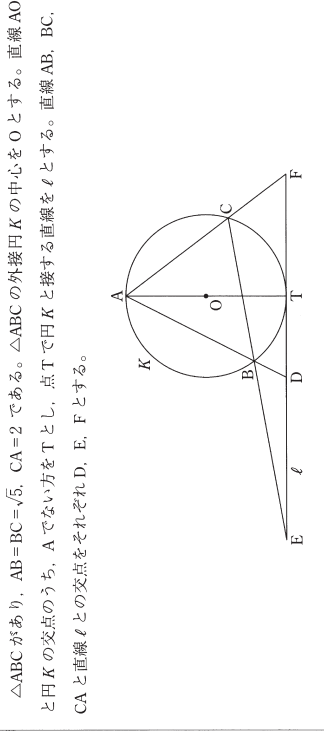
(3) $m = 19$ になるのは、 $25 \leq a \leq 26$ のときである。 25 · 26

(4) a の値を(3)で求めた範囲で変化させると、 M の最大値は 27 、 28 である。 27 · 28

選択肢

- | | | | | | | | | | |
|---|---|---|---|---|---|---|---|---|---|
| ア | 0 | イ | 1 | ウ | 2 | エ | 3 | オ | 4 |
| カ | 5 | キ | 6 | ク | 7 | ケ | 8 | コ | 9 |

〔Ⅲ〕以下の文章を読み、空欄の 29～42 に入る数字を選択肢から1つずつ選びなさい。



(1) △ABC に着目して、 $\cos \angle BAC = \frac{\sqrt{29}}{30}$ である。また、正弦定理により、円 K の半径は $\frac{31}{32}$ である。

29 · 30
31 · 32

(数学・第〔Ⅲ〕間は次ページへ続く)

(2) △ACT の△ATF より、 $AF = \frac{33 \cdot 34}{35}$ である。また、△ABC の△AFD より、 $AD = \frac{36 \sqrt{37}}{38}$ である。

33 · 34 · 35
36 · 37 · 38

(3) △ADF と直線 CE にメネラウスの定理を用いて、 $\frac{DE}{EF} = \frac{39}{40}$ である。さらに、△ABC の△AFD より、

$DE = \frac{41}{42}$ である。
39 · 40
41 · 42

選択肢

ア 0 イ 1 ウ 2 エ 3 オ 4
カ 5 キ 6 ク 7 ケ 8 コ 9

〔IV〕 以下の文章を読み、空欄の 43 ～ 53 に入る数字を選択肢から 1 つずつ選びなさい。

1 個のさいころを 1 回投げるとき、1 または 3 または 5 の目が出る事象を A、2 または 6 の目が出る事象を B とする。また、1 個のさいころを 3 回投げるとき、出る目の数の積を X とする。

(1) X が奇数になる確率は $\frac{43}{44}$ である。

$43 \cdot 44$

(2) X が 2 で割り切れるが 4 では割り切れないのは、3 回のうち、事象 A が 2 回、事象 B が 1 回起こる場合である。したがって、その確率は $\frac{45}{46}$ である。

$45 \cdot 46$

(数学・第〔IV〕問は次ページへ続く)

(3) 3 回のうち、事象 A が 1 回、事象 B が 2 回起こる確率は $\frac{47}{48}$ である。また、X が 4 で割り切れる

が 8 では割り切れない確率は $\frac{49}{50} \cdot \frac{51}{51}$ である。

$47 \cdot 48$
 $49 \cdot 50 \cdot 51$

(4) X が 8 で割り切れる確率は $\frac{52}{53}$ である。

$52 \cdot 53$

選択肢

ア 0 イ 1 ウ 2 エ 3 オ 4
カ 5 キ 6 ク 7 ケ 8 コ 9

A数②-1

A数②-2

数 学

解答番号 1 ~ 54

解答にあたっての注意事項

- ① 分数形で解答する場合、それ以上約分できない形で答えなさい。
- ② 根号を含む形で解答する場合、根号の中に現れる自然数が最小となる形で答えなさい。

〔I〕以下の空欄の 1 ~ 16 に入る数字を選択肢から1つずつ選びなさい。

- (1) $\frac{2\sqrt{2}+\sqrt{7}}{2\sqrt{2}-\sqrt{7}} + \frac{2\sqrt{2}-\sqrt{7}}{2\sqrt{2}+\sqrt{7}} = \frac{\text{1}}{\text{2}}$ である。 1 · 2
- (2) 1個のさいころを2回投げる。出た目の数の和が6の倍数になる確率は $\frac{\text{3}}{\text{4}}$ である。 3 · 4
- (3) AB=12, BC=15, CA=8 の△ABCがある。∠Aの二等分線が辺BCと交わる点をD, ∠Bの二等分線が線分ADと交わる点をIとする。このとき、 $\frac{AI}{ID} = \frac{\text{5}}{\text{6}}$ である。 5 · 6
- (4) a を実数の定数とする。 x の2次不等式 $x^2 - 2(a-1)x + 2a + 6 > 0$ がすべての実数 x に対して成り立つような a の値の範囲は、 $-\text{7} < a < \text{8}$ である。 7 · 8

(数学・第〔I〕間は次ページへ続く)

(5) AB=9, AC=4, ∠A=135° の△ABCの面積は、 $\text{9}\sqrt{\text{10}}$ である。 9 · 10

(6) a を定数とし、 x の2次関数 $f(x) = x^2 + ax + a + 3$ がある。 $y = f(x)$ のグラフが x 軸と異なる2点で交わるような a の値の範囲は、 $a < -\text{11}$, $\text{12} < a$ である。 11 · 12

(7) △ABCについて、BC=12, 外接円の半径が15であるとき、 $\sin A = \frac{\text{13}}{\text{14}}$ である。 13 · 14

(8) 1から5までの数字がそれぞれ1つずつ書かれた赤球が5個、1から3までの数字がそれぞれ1つずつ書かれた白球が3個、合計8個の球が袋の中に入っている。この袋から球を1個取り出す。取り出した球に書かれた数が奇数であったときに、その球が赤球である条件付き確率は、 $\frac{\text{15}}{\text{16}}$ である。 15 · 16

選択肢

- | | | | | | | | | | |
|---|---|---|---|---|---|---|---|---|---|
| ア | 0 | イ | 1 | ウ | 2 | エ | 3 | オ | 4 |
| カ | 5 | キ | 6 | ク | 7 | ケ | 8 | コ | 9 |

〔II〕以下の文章を読み、空欄の 17～30 に入る数字を選択肢から 1 つずつ選びなさい。

a を定数とし、 x の関数 $f(x) = (a-5)x^2 + 2x + 13$ 、 $g(x) = (7-2a)x^2 + (3a+2)x - 6a + 1$ がある。
 $y=f(x)$ 、 $y=g(x)$ のグラフをそれぞれ C_1 、 C_2 とすると、 C_1 、 C_2 は放物線であり、 C_1 を平行移動さ
 せて C_2 に重ねることができるものとする。

(1) $a = 17$ である。放物線 C_1 の頂点の座標は (18, 19) (20) であり、放物線 C_2 を x 軸方向に (21)・ y
 軸方向に (22) (23) だけ平行移動させると、放物線 C_2 に重なる。

17
 18・19・20
 21・22・23

(2) 2 つの放物線 C_1 、 C_2 の共有点の x 座標は、 x の方程式 $f(x) = g(x)$ の実数解である。したがって、
 C_1 、 C_2 の共有点の座標は (24) (25) (26) である。

24・25・26

(数学・第〔II〕間は次ページへ続く)

(3) $h(x) = \begin{cases} f(x) & (x \leq 24) \\ g(x) & (x > 24) \end{cases}$ のとき) とする。 $0 \leq x \leq 9$ における $h(x)$ の最大値は (27) (28) 最小値は
 (29) (30) である。

27・28
 29・30

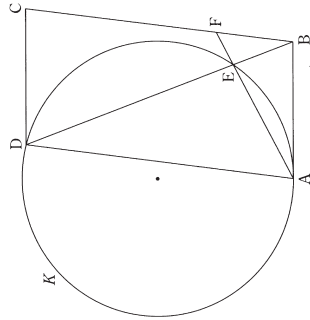
選択肢

ア 0 イ 1 ウ 2 エ 3 オ 4
 カ 5 キ 6 ク 7 ケ 8 コ 9

A数②-5

〔Ⅲ〕以下の文章を読み、空欄の〔31〕～〔44〕に入る数字を選択肢から1つずつ選びなさい。

平行四辺形ABCDがあり、 $AB=6$ 、 $\cos\angle BAD = \frac{1}{8}$ である。円Kは、半径が $\frac{16}{\sqrt{7}}$ で、点Aにおいて直線ABに接し、点Dを通る。円Kと線分BDの交点のうち、Dでない方をEとする。また、2直線AE、BCの交点をFとする。



(数学・第〔Ⅲ〕問は次ページへ続く)

A数②-6

(1) $\cos\angle BAD = \frac{1}{8}$ より、 $\sin\angle BAD = \frac{\sqrt{31}}{33}$ である。また、 $\angle AED = 180^\circ - \angle BAD$ であるから、

$\triangle ADE$ において正弦定理により、 $AD = \frac{31}{34} \cdot \frac{33}{35}$ である。

(2) 平行四辺形ABCDの面積をSとすると、 $S = \frac{36}{37} \sqrt{\frac{39}{38}}$ である。

(3) $\triangle ABD$ に着目して、 $BD = \frac{39}{40} \sqrt{40}$ である。また、点Bと円Kに着目して、 $BE = \frac{41}{43} \sqrt{\frac{42}{44}}$ である。よって、 $AE : FE = \frac{43}{44} : \frac{44}{43}$ である。

選択肢

- | | | | | | | | | | |
|---|---|---|---|---|---|---|---|---|---|
| ア | 0 | イ | 1 | ウ | 2 | エ | 3 | オ | 4 |
| カ | 5 | キ | 6 | ク | 7 | ケ | 8 | コ | 9 |

〔31〕・〔32〕・〔33〕
〔34〕・〔35〕

〔36〕・〔37〕・〔38〕

〔39〕・〔40〕
〔41〕・〔42〕
〔43〕・〔44〕

〔IV〕以下の文章を読み、空欄の 45 ~ 54 に入る数字を選択肢から 1 つずつ選びなさい。

いくつかの空箱があり、同じ大きさの球がたくさんある。「満杯になっっていない箱を選んで、球を 1 個入れる」という操作を、すべての箱が満杯になるまで繰り返す。このとき、何個目の球をどの箱に入れるかの入れ方を考える。ここでは、球がちょうど n 個入る空箱を「容量 n の箱」と呼ぶことにする。

(1) 容量 6 の箱 A と容量 3 の箱 B がある。9 個の球を横一列に並べ、左端の球から順に箱に入れていくことにする。箱 A に入れる球に文字 A を、箱 B に入れる球に文字 B を書くことにすれば、球の入れ方は 6 個の文字 A と 3 個の文字 B の順列で表せることになる。したがって、箱 A、B への球の入れ方は $\boxed{45} \boxed{46}$ 通りある。

(2) (1)と同じように考えると、容量 2 の 3 つの箱 C、D、E への 6 個の球の入れ方は $\boxed{47} \boxed{48}$ 通りある。

(数学・第 [IV] 間は次ページへ続く)

(3) 容量 3 の 3 つの箱 F、G、H がある。条件「箱 F が箱 G よりも先に満杯になる」……(※)を満たす入れ方を考える。まず、箱 F と箱 G に入れる球をいったん容量 6 の箱 X に入れることにし、容量 6 の箱 X と容量 3 の箱 H に球を入れるとすると、入れ方は(1)より $\boxed{45} \boxed{46}$ 通りある。次に、箱 X に入った球を、条件(※)を満たすように箱 F または箱 G に入れる。このように考えると、条件(※)を満たす入れ方は $\boxed{49} \boxed{50} \boxed{51}$ 通りある。

(4) 容量 3 の 3 つの箱 I、J、K がある。条件「箱 I、J に入っている球の個数に 2 個以上の差ができる瞬間がない」を満たす入れ方は、(3)と同じように考えると、 $\boxed{52} \boxed{53} \boxed{54}$ 通りある。

選択肢

ア 0 イ 1 ウ 2 エ 3 オ 4
 カ 5 キ 6 ク 7 ケ 8 コ 9

MEMO

A series of horizontal dotted lines for writing.



日本史



<大学受験パスナビ 桃山学院大学ページ>

https://passnavi.evidus.com/search_univ/4350/kakomon.html

※桃山学院大学、桃山学院教育大学の過去問題掲載



A 10-1

日本史

解答番号

1

~

40

【I】 次の【文章A】・【文章B】を読んで、後の問いに答えなさい。

【文章A】

桓武天皇の改革を引き継いだ嵯峨天皇は、平城太上天皇の復位を企てた藤原仲成とその妹の【 1 】を退けた際、天皇の機密文書を扱う秘書官長として蔵人頭を設けたほか、9世紀の初めには政情不安定であった平安京の治安維持などを職務とする検非違使を設置するなどの対策を講じた。8世紀後半以降、調唐などの滞納によって国家財政の維持が次第に困難になっていたが、嵯峨天皇の時代には大宰府管内に【 2 】が設けられるなど、官営方式の田の設定によって財源を確保しようとする動きが強まった。この頃になると、格や式aの分量も膨大になって政治に支障が生じるようになってきたため、嵯峨天皇は格式の分類・集成を進め、820年に弘仁格式を編纂した。

桓武天皇や嵯峨天皇が貴族勢力を抑えて権力を掌握したのに対して、清和天皇の時代は藤原氏北家が天皇皇太后のつながりbを強めて勢力を伸ばした。藤原良房は、承和の変で有力貴族を排斥し、858年に清和天皇が即位すると、外祖父として政治を代行するようになった。応天門の変の後には、正式に摂政の任に就き、外戚の地位を利用して政界で大きな勢力を持つこととなった。

問1 空欄【 1 】・【 2 】にあてはまる語句として最も適切なものはどれか。次のア～エのうちから一つずつ選びなさい。

- 【1】 ア 藤原永手 イ 藤原種継 ウ 藤原兼房 エ 藤原百川 **1**
- 【2】 ア 官田 イ 公営田 ウ 勅旨田 エ 諸司田 **2**

問2 下線部aについて述べた次の文(i)・(ii)の正誤の組み合わせとして最も適切なものはどれか。下のア～エのうちから一つ選びなさい。

- (i) 格は、律令の規定を補足・修正するために出された法令である。
- (ii) 式は、廃止された一部の律令にかわる新しい法令である。
- ア (i)正 (ii)正 イ (i)正 (ii)誤
- ウ (i)誤 (ii)誤 エ (i)誤 (ii)誤

A 10-2

問3 下線部bに関連して、藤原氏北家の動向について述べた次の文(i)～(iii)について、古いものから年代順に正しく配列したものを、下のア～カのうちから一つ選びなさい。

- (i) 藤原実朝は、安和の変の後に摂政に就任した。
- (ii) 藤原基経は、阿衡の紛議で関白の政治的地位を確立した。
- (iii) 藤原時平は、右大臣菅原道真を大宰府に左遷した。

- ア (i)～(ii)～(iii)
- イ (i)～(iii)～(ii)
- ウ (ii)～(i)～(iii)
- エ (ii)～(iii)～(i)
- オ (iii)～(i)～(ii)
- カ (iii)～(ii)～(i)

問4 下線部cに関連して、応天門の変で藤原氏によって失脚に追いこまれた人物として正しいものはどれか。次のア～エのうちから一つ選びなさい。

- ア 橘逸勢 イ 橘広相 ウ 伴善男 エ 伴健岑

【文章B】

藤原頼通の娘に皇子が誕生しなかったため、1068年に摂関家を外戚としない後三条天皇が即位した。すでに北年に達していたこの天皇は、摂関家にはばかるとなく政策を推し進め、即位の翌年には延久の荘園整理令を発して荘園の整理を進めた。荘園の整理が進むと、貴族や寺社が支配する荘園と、国司が支配する公領(国階領)の区別が明確になった。国司は公領を郡・【 3 】保などの新たな単位に再編成し、開発領主を郡司などに任命して徴税を請け負わせた。開発領主は、国司との関係のなかで、自ら開発した土地を荘園領主に寄進したり、国司の公領に組みこんだりしたため、荘園と公領が並立する体制となった。

後三条天皇の子の白河天皇は父の政策を継承したが、幼少の堀河天皇に譲位すると、政治的制約の少ない上皇の立場で政治を行った。院政を開始した白河上皇は、富裕な受領や乳母の一族を院近臣とし、院政のための【 4 】を設置するなど、慣例や法にとらわれない政策を展開した。白河上皇につづいて院政を行った鳥羽上皇は、荘園整理には消極的な態度をとったため、院への荘園寄進を増大させた。また、知行国制度が広がるなか、上皇自身も国の収益を握るようになり、知行国制度による収入も院政の財政基盤の一つとなった。

問5 空欄【3】・【4】にあてはまる語句として最も適切なものはどれか。次のア～エのうちから一つずつ選びなさい。

- 【3】ア 郷 イ 評 ウ 里 エ 町 6
 【4】ア 北面の武士 イ 西面の武士 ウ 追捕使 エ 押領使 7

問6 下線部dに関連して、この整理策について述べた文として正しいものはどれか。次のア～エのうちから一つ選びなさい。

- ア 荘園者が所有した荘園は、整理の対象から除外された。
 イ 朝廷が発したのものとしては、最初の荘園整理令だった。
 ウ 中央に記録荘園券契所を設置し、荘園の証拠書類を審査させた。
 エ 独自の荘民をもたず、国司・郡司の地方統治に依存した荘園が営まれるようになった。
8

問7 下線部eに関連して、開発領主について述べた次の文(イ)・(ii)の正誤の組み合わせとして最も適切なものはどれか。下のア～エのうちから一つ選びなさい。

- (イ) 一部の開発領主は、預所や下司などの荘官となった。
 (ii) 政府から官物や臨時雑役を免除された開発領主のことを、検田使という。
9

- ア (i)正 (ii)正 イ (i)正 (ii)誤
 ウ (i)誤 (ii)正 エ (i)誤 (ii)誤

問8 下線部fに関連して、鳥羽上皇(法皇)が院政を行った時期の天皇として正しいものはどれか。次のア～エのうちから一つ選びなさい。

- ア 後鳥羽天皇 イ 高倉天皇 ウ 安徳天皇 エ 崇徳天皇
10

〔II〕 次の【文章A】・【文章B】を読んで、後の問いに答えなさい。

【文章A】

承久の後、幕府は3代執権北条泰時の指導のもとに発展の時期を迎えた。泰時は、執権を補佐する連署をおいて叔父の北条時房をこれに任じ、ついで有力御家人や政務に優れた11人を【1】に選び、執権・連署とともに政務の処理にあたらせて合議制を確立させた。また、1232年に最初の体系的な武家法として御成敗式目を制定し、所領紛争を公平に裁く基準を明らかにした。御成敗式目は、源朝以来の先例や道理とよばれた武士社会の慣習に基づいて制定され、条文数は51か条に及ぶ。

次の史料は「北条泰時書状」で、御成敗式目制定の趣旨が記述されている。(史料には、一部省略したり、書き改めたりしたところもある。)

さてこの式目をつくられ候事は、なにを本説(注1)として被注載之由、人(注2)さだめて勝難を加事候。兼、ま事にさせる本文にすがりたりたる事候はねども、たゞどりのおすところを被記候者也。……かねて御成敗の條をさだめて、人の高下を不論、偏頗なく裁定せられ候はんために、子細記録しやかれ候者也。この状は法令(注3)のおしへに違ふところなど少々候へども、……あまねく人へに心えやすからせんために、武家の人へのはからひのためばかりに候。これによりて京都の御沙汰、律令のおきて脚もあらたまるべきにあらず候也。

(注1)「本説」とは、根拠のこと。

(注2)「人」とは、朝廷の人々のこと。

(注3)「法令」とは、律令・格式などの公家法のこと。

泰時の政策を継承した孫の北条時頼の頃になると、執権の地位の強化がはかられ、北条氏による専制体制の性格が強まった。時頼は、藤原将軍に代わる皇族(親王)将軍として【2】を最初に擁立したが、皇族将軍に実権はなく名目の将軍にすぎなかった。

問1 空欄【1】・【2】にあてはまる語句として最も適切なものはどれか。次のア～エのうちから一つずつ選びなさい。

- 【1】ア 講奏公卿 イ 内管領 ウ 引付衆 エ 評定衆 11
 【2】ア 九条賴経 イ 九条頼嗣 ウ 宗尊親王 エ 義良親王 12

A10-5

問2 下線部aに関連して、承久の乱の結果について述べた次の文(i)・(ii)の正誤の組み合わせとして最も適切なものはどれか。下のア～エのうちから一つ選びなさい。

- (i) 上皇側についた貴族や武士の所領を没収し、その地に新たに守護を設置した。
- (ii) 京都に六波羅探題を設置し、朝廷の監視や西国の統轄にあたらせた。

- ア (i)正 (ii)正 イ (i)正 (ii)誤
- ウ (i)誤 (ii)正 エ (i)誤 (ii)誤

問3 下線部bから読みとることのできる事柄について述べた文として正しいものはどれか。次のア～エのうちから一つ選びなさい。

- ア 武家社会の便宜のために定められたもので、これに基づいて朝廷の裁決や律令の規定も変更される。
- イ 武家社会の便宜のために定められたもので、これによって朝廷の裁決や律令の規定は変更されるものではない。
- ウ 朝廷の裁決や律令の規定を手本に、武家社会の実情を考慮して定められたものである。
- エ 朝廷の裁決や律令の規定を手本に、武家社会の裁判のあり方に修正をくわえたものである。

問4 下線部cに関連して、北条時頼が執権の地位にあった時の出来事として正しいものはどれか。次のア～エのうちから一つ選びなさい。

- ア 宝治合戦の発生
- ウ 永仁の徳政令の発令
- イ 霜月騒動の発生
- エ 新補率法の制定

A10-6

【文章B】
江戸幕府は、天皇や公家の行動を規制し、1615年には禁中並公家諸法度を発して朝廷統制の基準を示した。また、【3】を設置して朝廷の監視を行ったほか、公家のなかから武家伝奏を選んで朝華間の連絡にあたらせた。しかし、こうした統制業は必然的に朝廷との対立を生み、紫衣事件を契機に天皇が譲位する事態まで生じた。

幕府は、寺社行政を支配してきた【4】の死をきっかけに、寺社統制の整備にも着手した。寺社奉行を設置したほか、寺請制度を設けてキリスト教に対する厳しい監視体制をとった。

次の史料は、禁中並公家諸法度からの引用である。(史料には、一部省略したり、書き改めたりしたところもある。)

- 一 天子諸芸能の事、第一御学問也。……
- 一 撰家(注1)為りと雖も、其器用無きは、三公撰関に任ぜらるべからず。況んや其外をや。
- 一 武家の官位は、公家当官の外為るべき事(注2)。
- 一 改元、漢朝の年号の内、吉例を以て相定むべし。……
- 一 紫衣(注3)の寺、住持職、先規希有の事(注4)也。近年擬りに勅許の事、且は鷹次(注5)を乱し、且は官寺を汚し、甚だ然るべからず、向後に於ては、其器用を撰び、……申し沙汰有るべき事。(御当家令条)

- (注1)「撰家」とは、摂政関白になることのできる家格の公卿のこと。
- (注2)「当官の外為るべき事」とは、公家とは別の扱いとすること。
- (注3)「紫衣」とは、朝廷から高徳の僧侶に与えられた紫色の僧衣。
- (注4)「先規希有の事」とは、先例がほとんどないこと。
- (注5)「鷹次」とは、僧侶が受戒後修行を経験した年数で決まる席次のこと。

問5 空欄【3】・【4】にあてはまる語句として最も適切なものはどれか。次のア～エのうちから一つずつ選びなさい。

- 【3】ア 京都守護 イ 京都守護 ウ 京都所司代 エ 京都大番役
- 【4】ア 荷田春満 イ 金地院崇伝 ウ 隠元隆琦 エ 契沖

問6 下線部dに関連して、1615年の出来事として誤っているものはどれか。次のア～エのうちから一つ選びなさい。

- ア 大坂夏の陣
- ウ 最初の武家諸法度発令
- イ 一国一威令発令
- エ 参勤交代の制度化

問7 下欄部eについて述べた次の文(i)・(ii)の正誤の組み合わせとして最も適切なものはどれか。下のア～エのうちから一つ選びなさい。

- (i) 後水尾天皇が幕府に届け出なく紫衣着用を勅許したことが問題となった。
 (ii) 事件後、後水尾天皇が讓位して徳川秀忠の孫が皇位についた。

ア (i)正 (ii)正 イ (i)正 (ii)誤
 ウ (i)誤 (ii)正 エ (i)誤 (ii)誤

問8 史料から読みとることのできる事柄について述べた文として誤っているものはどれか。次のア～エのうちから一つ選びなさい。

- ア 天皇は学問を優先すべきとした。
 イ 能力のない者は摂関などに任じてはならないとした。
 ウ 天皇が年号を定める際には日本の古典から定めることとした。
 エ 天皇が僧侶に与える紫衣の勅許を制限した。

〔Ⅲ〕 次の文章を読んで、後の問いに答えなさい。

日米修好通商条約締結後、外国との貿易は1859年より横浜・長崎・〔 1 〕の三港で始まった。日本では輸出品である生糸や茶などの生産が追いつかなかったため、国内向け物資が不足し、物価は騰貴した。また、金銀比価が日本と外国で異なっていたため、金貨が大量に海外に流出し、経済界は混乱した。

日本の貿易は、産業革命の進展によって大きく変化した。その中心的役割を果たしたのは軽工業であった。紡織業では、〔 2 〕らが設立した大坂紡織会社の成功に刺激され、手紡やガラ紡による生産を圧迫しながら機械制生産が急増すると、1890年には綿糸の生産量が輸入量を上回った。さらに1894年の綿糸輸出税の撤廃などにより、中国・朝鮮への綿糸輸出が急増したため、1897年に輸出量が輸入量を上回った。一方製糸業は、生糸が幕末以来最大の輸出品であったことから、農村の養蚕業を基盤として、欧米向けの輸出産業として急速に発達した。輸向けへの生産の増加にもなつて、日清戦争後には器械製糸の生産量が産糸製糸を上回り、大規模な製糸工場もつくられた。日露戦争後には、生糸の輸出がさらに伸び、1909年には清を追い越して輸出規模は世界最大となった。このような紡織・製糸業の発展にともない、綿花など原料の輸入が増大し、生糸・綿糸など加工品の輸出が増えた。このことは、日本が近代工業国に転じたことを示すものである。

第一次世界大戦は、明治末期からの日本の経済不況と財政危機とを一挙に吹き飛ばす、いわゆる大戦景気をもたらした。とくに、工業の躍進によって、第一次世界大戦を契機に日本は本格的な工業国へ脱皮した。貿易額も飛躍的に増大し、1915年には輸出超過に転じ、国際収支は大幅に改善された。

1920年代になると長期化する不況のなか、輸出が激減して輸入超過の状況が常態化した。〔 3 〕内閣は、財政緊縮策をとり、産業合理化を促進して国際競争力を強化しようとした。そして旧平面的による金解禁を断行したが、1929年にアメリカで始まった世界恐慌は日本にも波及し、日本経済は財政緊縮と金解禁による不況とで二重の打撃を受け深刻な恐慌状態におちいった。その後の金輸出再禁止によって円の為替相場が暴落すると、日本はこれを利用して輸出の振興をはかった。これに対してイギリスなどの列強はブロック経済圏を強化する政策をとった。一方、日本は輸入面でアメリカへの依存度を高めることになつた。日本の貿易は、アメリカとの対立にもなう経済封鎖によって次第に減退し、改善されないまま太平洋戦争に突入した。

戦後、高度経済成長と産業構造の高度化は貿易に反映され、1960年代後半以降の日本の貿易収支は大幅な輸出超過となった。これに先がけて、日本は1964年には〔 4 〕8 条国に移行するなど開放経済体制を整備していたが、1980年代には欧米諸国との貿易摩擦、とくにアメリカとの間に生じた貿易摩擦が大きな問題となった。

A E10-9

問1 空欄【 1 】～【 4 】にあてはまる語句として最も適切なものはどれか。次のア～エのうちから一つずつ選びなさい。

- 【1】ア 新潟 イ 箱館 ウ 下田 エ 神戸
 【2】ア 浅沼栄一 イ 大村益次郎 ウ 江藤新平 エ 木戸孝允
 【3】ア 若槻礼次郎 イ 田中義一 ウ 浜口雄幸 エ 犬養毅
 【4】ア IMF イ OECD ウ IBRD エ GATT

問2 下線部 a に関連して、開港後の貿易について述べた文として誤っているものはどれか。次のア～エのうちから一つ選びなさい。

- ア 毛織物や綿織物などが輸入された。
 イ 貿易の輸出入額は横浜が最も多かった。
 ウ 貿易は当初輸出超過であった。
 エ 貿易の取引額はアメリカが最も多かった。

問3 下線部 b に関連して、日露戦争後の国際関係について述べた次の文(i)・(ii)の正誤の組み合わせとして最も適切なものはどれか。下のア～エのうちから一つ選びなさい。

- (i) 日本は、韓国併合条約を強要して韓国を植民地化し、統治機関として朝鮮総督府を設置した。
 (ii) 日本は、戦後に南満州から後退したため、満州市場に関心をもちアメリカとの関係は改善した。

- ア (i)正 (ii)正 イ (i)正 (ii)誤
 ウ (i)誤 (ii)正 エ (i)誤 (ii)誤

問4 下線部 c に関連して述べた文として誤っているものはどれか。次のア～エのうちから一つ選びなさい。

- ア ドイツからの輸入が途絶えたため、化学工業では製品の国産化が進んだ。
 イ ヨーロッパ列強が後退したアジア市場に向け、綿織物の輸出が拡大した。
 ウ 世界的な船舶不足のため、海運業と造船業が発達した。
 エ 戦争景気のイギリス市場に向けて生糸が大量に輸出された。

問5 下線部 d に関連して、金輸出再禁止を実施した大蔵大臣として正しいものはどれか。次のア～エのうちから一つ選びなさい。

- ア 井上準之助 イ 片岡直温 ウ 石橋湛山 エ 高橋是清

A E10-10

問6 下線部 e に関連して、高度経済成長期の社会や経済に関して述べた次の文(i)・(ii)の正誤の組み合わせとして最も適切なものはどれか。下のア～エのうちから一つ選びなさい。

- (i) 都市部への人口移動が生じ、都市の過密と農村の過疎化が社会問題化した。
 (ii) 主なエネルギー資源が石炭から石油へと急速に変化した。
 ア (i)正 (ii)正 イ (i)正 (ii)誤
 ウ (i)誤 (ii)正 エ (i)誤 (ii)誤

問7 下線部 f に関連して、1980年代にアメリカの対日貿易赤字が増大したため、アメリカは農産物の輸入自由化をせまった。1988年に日本が輸入自由化を決定した品目として正しいものはどれか。次のア～エのうちから一つ選びなさい。

- ア 牛肉と小麦 イ 牛肉とオレング
 ウ とうもろこしと小麦 エ とうもろこしとオレング

〔IV〕 次の文章を読んで、後の問いに答えなさい。

朱子学は、鎌倉時代に宋から伝えられ、鎌倉五山や京都五山の学僧を中心に広まった。後醍醐天皇も、朱子学の大義名論を信奉し、それを鎌倉幕府滅亡から天皇親政再興にかけたの自らの行動原理とした。室町時代に入っても、朱子学は五山の禅僧によって継承され、かれらは儒学の教養を布教活動にも役立てた。五山では、漢詩文の研究も盛んで、その成果は五山文学とよばれる。

江戸時代に入ると、藤原惺齋や林羅山らによって大義名論が武家政治の基本理念として受け入れられた。君臣や上下の秩序を重んじた大義名論が、封建秩序を維持しようとする体制にとって適した理論であったからである。諸藩の大名も朱子学を採用し、加賀藩の【 1 】は朱子学者木下順庵を招いた。徳川綱吉が展開した文治主義も朱子学に基づいたもので、綱吉は木下順庵に朱子学を学び、羅山の孫林鳳岡(信篤)を大学頭に任じて朱子学を重んじた。

江戸時代の朱子学の学派には、藤原惺齋が創始した京学と南村梅軒を祖とする南学があった。京学派からは、林羅山の子孫の系統のほか、木下順庵門下から新井白石や室鳩巢らが輩出した。また、南学から出た山崎闇斎は、【 2 】とよばれる朱子学を基本とする独自の神道説を唱えた。

幕藩体制が動揺する18世紀後半になると、古学派などが台頭し、民間でも各地に私塾がつくられ国学や蘭学が講義された。幕府は朱子学以外の台頭に危機感を強め、幕政改革を進めていた【 3 】は、1790年には寛政異学の禁を発し、聖堂問所では正学である朱子学以外の学派は講義をさせないとし、朱子学による官吏の登用試験も設けられた。この政策は朱子学以外の学派を衰退させ、朱子学は幕末まで封建教としての役割を果たした。幕末には、朱子学は水戸学をはじめとする尊王攘夷運動にも影響を与え、天皇を中心とした国家を形成すべきだという新しい理念が説かれるようになった。

朱子学の思想は、近代日本の教育にも影響を与えた。1890年に発布された教育に関する勅語(教育勅語)は、儒教的な家族主義の頂点にある天皇を崇め、「忠君愛国」「忠孝一致」を教育の基本とした。教育勅語は、学校教育の現場で奉読され、教育を通じて天皇制国家を支える役割を果たした。

問1 空欄【 1 】～【 3 】にあてはまる語句として最も適切なものはどれか。次のア～エのうちから一つずつ選びなさい。

- | | | | | |
|-----------|--------|--------|--------|----|
| 【1】ア 池田光政 | イ 前田綱紀 | ウ 徳川光圀 | エ 保科正之 | 31 |
| 【2】ア 垂加神道 | イ 唯一神道 | ウ 復古神道 | エ 伊勢神道 | 32 |
| 【3】ア 田沼意次 | イ 徳川吉宗 | ウ 松平定信 | エ 水野忠邦 | 33 |

問2 下線部aに関連して、別格として五山の上位におかれた寺院として正しいものはどれか。次のア～エのうちから一つ選びなさい。

- | | | | | |
|-------|-------|-------|-------|----|
| ア 天龍寺 | イ 相国寺 | ウ 建仁寺 | エ 南禅寺 | 34 |
|-------|-------|-------|-------|----|

問3 下線部bに関連して、この時期を扱った歴史書や戦記について述べた次の文(i)・(ii)の正誤の組み合わせとして最も適切なものはどれか。下のア～エのうちから一つ選びなさい。

- 35
- (i) 『神皇正統記』は北畠親房によって著され、北朝の正統性が主張されている。
(ii) 『梅松論』は足利氏一門の関係者によって著されたとされ、室町幕府の正統性が主張されている。

- | | |
|--------------|--------------|
| ア (i)正 (ii)正 | イ (i)正 (ii)誤 |
| ウ (i)誤 (ii)正 | エ (i)誤 (ii)誤 |

問4 下線部cに関連して、徳川綱吉の政策に関する説明として誤っているものはどれか。次のア～エのうちから一つ選びなさい。

- 36
- ア 林家の私塾を湯島に移して湯島聖堂をひらいた。
イ 勘定吟味役萩原重秀の意見を採用して貨幣の品位を落とした。
ウ 天文方を設置して渋川春海を任じた。
エ 末期養子の禁止を緩和して半人の増加を防いだ。

問5 下線部dに関連して、新井白石が公家政権から武家政権への推移と徳川政権の正統性を述べた史論書として正しいものはどれか。次のア～エのうちから一つ選びなさい。

- | | | | | |
|----------|----------|----------|--------|----|
| ア 『読史余論』 | イ 『本朝通鑑』 | ウ 『中期事実』 | エ 『政談』 | 37 |
|----------|----------|----------|--------|----|

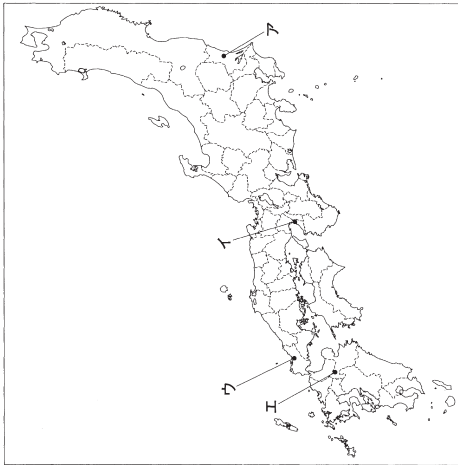
問6 下線部eに関連して、幕藩体制の動向こともなまって、社会や封建体制を批判して改革を唱える人々が現れた。社会批判を展開した人物に関する説明として正しいものはどれか。次のア～エのうちから一つ選びなさい。

- 38
- ア 本多利明は、『戊戌夢物語』を著して外国との交易の必要性を説いた。
イ 佐藤信淵は、『尊機論』を著して産業の国営化を説いた。
ウ 山片蟠桃は、『夢の代』を著して合理主義の立場から儒教などを批判した。
エ 安藤昌益は、『新論』を著して封建的な身分制度を鋭く批判した。

A.E①-13

問7 下線部fに関連して、蘭学者緒方洪庵がひらいた私塾である通々茶塾が所在した位置として正しいものを、下の地図上のア～エのうちから一つ選びなさい。

39



問8 下線部gに関連して、明治時代の教育について述べた次の文(イ)～(ロ)について、古いものから年代順に正しく配列したものを、下のア～カのうちから一つ選びなさい。

40

- (イ) 文部大臣森有礼のもとで学校令が公布された。
- (ロ) 小学校国定教科書制度が成立した。
- (ハ) 学制が廃止されて教育令が公布された。

- ア (イ) - (ロ) - (ハ)
- イ (イ) - (ハ) - (ロ)
- ウ (ロ) - (イ) - (ハ)
- エ (ロ) - (ハ) - (イ)
- オ (ロ) - (イ) - (ハ)
- カ (ハ) - (ロ) - (イ)

日本史おわり 解答番号 1 ~ 40

日本史

解答番号 ~

【I】 次の【文章A】・【文章B】を読んで、後の問いに答えなさい。

【文章A】

朝廷は、7世紀半は頃から国家領域の拡大につとめ、当時東北地方に居住していた蝦夷を支配下に取り込む政策を展開した。大化改新の直後には、日本海側を北上して淳足柵や磐舟柵を設け、その地を征討の拠点とした。【 1 】の時代には、阿倍比羅夫が派遣され、蝦夷や北海道南部にいたとされる蕭旗を討たせた。

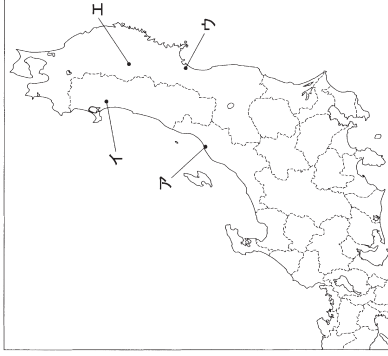
奈良時代に入ると、蝦夷対策はさらに進み、712年に出羽国を設置し、733年にはさらに北上して秋田城を築いた。陸奥国にも724年に多賀城を設け、この地に鎮守府を置いて軍事支配の拠点とした。しかし、東北支配の進展は蝦夷の抵抗を招き、780年には、蝦夷の首長【 2 】が多賀城を焼打ちにする事件が起きている。

桓武・嵯峨天皇の時代には蝦夷の平定事業が進み、桓武天皇の時には、坂上田村麻呂が大きな働きを示した。田村麻呂は797年に征夷大將軍に任じられ、802年には北上川流域に胆沢城を設置して、鎮守府をこの地に移した。さらに嵯峨天皇が811年に文室綿麻呂を征夷將軍として派遣すると、蝦夷の抵抗はほぼ終わった。

問1 空欄【 1 】・【 2 】にあてはまる語句として最も適切なものはどれか。次のア～エのうちから一つずつ選びなさい。

- 【1】ア 孝徳天皇 イ 齊明天皇 ウ 天智天皇 エ 天武天皇
- 【2】ア 安倍頼時 イ 阿弓流為 ウ 伊治咎麻呂 エ 紀古佐美

問2 下線部aに関連して、多賀城の位置として正しいものを、下の地図上のア～エのうちから一つ選びなさい。



問3 下線部bに関連して、9世紀には弘仁・貞観文化とよばれる貴族文化が発展し、美術では密教特有の神秘的な作品がつくられた。この時期の美術作品として誤っているものはどれか。次のア～エのうちから一つ選びなさい。

- ア 観心寺如意輪観音像 イ 教王護国寺阿闍梨茶羅
- ウ 園城寺不動明王像 エ 高野山聖衆來迎図

問4 下線部cに関連して、桓武天皇の政策に関する説明として誤っているものはどれか。次のア～エのうちから一つ選びなさい。

- ア 軍団を一部の地域を除いて廃止し、郡司の子弟らを健児に採用した。
- イ 長岡京遷都から10年後に平安京に遷都した。
- ウ 蔵人頭を設置し、天皇の機密文書を扱わせた。
- エ 藤原緒嗣の意見を採用して、蝦夷征討事業と平安京造営事業を中止した。

【文章B】

九州地方では、南九州の倭人とよはれた人々の地域でたびたび朝廷の支配に対する抵抗が発生した。そこで朝廷は、抵抗を制圧し、8世紀初めに薩摩国について【 3 】を設置した。しかし、720年に倭人が再び反乱を起こし、【 3 】の国司を殺害したため、大伴旅人を派遣してこれを鎮圧させた。このうち倭人の勢力は次第に衰えた。

遣唐使が開始されると、九州は航路の拠点となった。遣唐使は、最初は博多から岩崎・対馬を経て朝鮮半島の西岸沿いに北上し、山東半島から陸路で長安に向かう比較的安全な北路を航路とした。しかし、【 4 】との関係が悪化した8世紀以降は、朝鮮半島の沿岸を通ることを避けて、危険をともなう南路に変更された。遣唐使のなかには、唐名を朝衡と名乗った阿倍仲麻呂のように、帰国できないうまま玄宗帝に重用されて高官に上り、結局唐で客死した人物もあった。

問5 空欄【 3 】・【 4 】にあてはまる語句として最も適切なものはどれか。次のア～エのうちから一つずつ選びなさい。

- 【3】ア 日向国 イ 大隅国 ウ 肥後国 エ 豊後国 6
 【4】ア 新羅 イ 渤海 ウ 高句麗 エ 百濟 7

問6 下線部dに関連して、大伴旅人は奈良時代に編纂された『万葉集』に和歌が収められたことで知られる歌人でもあった。『万葉集』に和歌が収められている歌人として誤っているものはどれか。次のア～エのうちから一つ選びなさい。

- ア 柿本人麻呂 イ 山上憶良 ウ 大伴家持 エ 淡海三船 8

問7 下線部eの遣唐使について述べた次の文(i)・(ii)の正誤の組み合わせとして最も適切なものはどれか。下のア～エのうちから一つ選びなさい。

- (i) 犬上御田孫の派遣を最初とし、菅原道真の建議によって中止が決定されるまで続いた。
 (ii) 1回の派遣で多い時には約500人に及ぶ人々が、4隻の船に乗って唐に渡った。

- ア (i)正 (ii)正 イ (i)正 (ii)誤
 ウ (i)誤 (ii)正 エ (i)誤 (ii)誤 9

問8 下線部fに関連して、阿倍仲麻呂と同時期に唐に派遣された人物に吉備真備や玄昉がいる。この二人を重用した天皇の政策に関する説明として誤っているものはどれか。次のア～エのうちから一つ選びなさい。

- ア 鎮護国家思想に基づいて国分寺建立の詔を発した。
 イ 壘田永年私財法を発して開墾地の永年私有を認めた。
 ウ 藤原広嗣の乱後に平城京を離れて都を転々と移した。
 エ 大宝律令を制定して律令制度を確立した。 10

〔II〕 次の文章を読んで、後の問いに答えなさい。

1543年以降、ポルトガル人が毎年のように九州各地に來航し、日本との貿易を行うようになった。また、スペイン人もその後、日本との貿易を開始した。ポルトガル・スペイン両国との貿易は南蛮貿易とよばれ、キリスト教宣教師の布教活動と一体化して行われた。1549年、イエズス会宣教師フランシスコ・ザビエルが鹿児島に到着すると、日本にはじめてキリスト教が伝えられた。その後も宣教師が相次いで來日し、かれらは【 11 】とよばれる教会堂や、宣教師養成学校と神学校を建てるなどして布教につとめた。その結果、なかには洗礼を受ける大名もあった。1582年には、イタリア人宣教師【 12 】のすすめを受けて、3人のキリシタン大名が少年使節をヨーロッパに派遣している。

豊臣秀吉は、はじめキリスト教の布教を認めていたが、次第にキリスト教が自国支配の障礙になると考えるようになり、バテレン通禁令を発して宣教師の国外追放を命じた。さらに秀吉は、1596年のサン・フェリペ号事件に刺激されて、宣教師や信者を長崎で処刑した。日本の支配者層の間にキリスト教に対する警戒心が広がった。

江戸幕府は、当初、貿易を奨励する目的もあってキリスト教の布教を黙認する政策をとったが、次第に厳しい姿勢を示すようになった。1612年に直轄領に禁教令を発し、さらに翌年には全国に拡大して、キリスト教信者に改宗を強制した。また、キリスト教の禁止にくわえて、幕府は貿易に対する統制策も強めた。この政策には、西国大名が外国との貿易によって、経済的・軍事的に強大化することを防ぐ意図があった。1616年には、【 13 】船以外の外国船の寄港地を平戸・長崎の2港に限定し、1633年には東南アジアに向かう朱印船に対しても、【 14 】が発行する渡航許可証である奉書の申請を義務づけるなどの規制をくわえた。また、島原の乱の発生は幕府のキリスト教に対する警戒心をいっそう強め、これ以降鎖国体制はより強化された。1641年、オランダ商館を長崎の出島に移転させると、幕府が長崎貿易と海外情報を独占する体制が生まれることとなった。しかし、海外の文化・情報の入手は長崎に限られることはなく、海外への窓口は開かれていた。

問1 空欄【 11 】～【 14 】にあてはまる語句として最も適切なものはどれか。次のア～コのうちから一つずつ選びなさい。

- | | | | | | | |
|---|-----------|---|-----|---|---------|--------|
| ア | 朝鮮 | イ | 中国 | ウ | オランダ | 【 11 】 |
| エ | 大老 | オ | 老中 | カ | コレジオ | 【 12 】 |
| キ | セミナリオ | ク | 南蛮寺 | ケ | ヴァリニャーニ | 【 13 】 |
| コ | ガスバル＝ヴィレラ | | | | | 【 14 】 |

問2 下線部aに関連して、スペインが東洋貿易の拠点とした都市として正しいものはどれか。次のア～エのうちから一つ選びなさい。

- | | | | | | | | | |
|---|----|---|-----|---|------|---|-----|--------|
| ア | ゴア | イ | マニラ | ウ | マラッカ | エ | マカオ | 【 15 】 |
|---|----|---|-----|---|------|---|-----|--------|

問3 下線部bについて述べた次の文(i)・(ii)の正誤の組み合わせとして最も適切なものはどれか。下のア～エのうちから一つ選びなさい。

- (i) 発令には、大村純忠が長崎をイエズス会に寄進していたことが背景にあった。
(ii) 南蛮貿易を奨励したため、キリスト教の取り締まりは不徹底に終わった。

- | | | | | | |
|---|------|-------|---|------|-------|
| ア | (i)正 | (ii)正 | イ | (i)正 | (ii)誤 |
| ウ | (i)誤 | (ii)正 | エ | (i)誤 | (ii)誤 |

問4 下線部cに関連して、禁教令によって国外に追放された元キリシタン大名として正しいものはどれか。次のア～エのうちから一つ選びなさい。

- | | | | | | | | | |
|---|------|---|------|---|------|---|------|--------|
| ア | 有馬晴信 | イ | 小西行長 | ウ | 大友義鎮 | エ | 高山右近 | 【 16 】 |
|---|------|---|------|---|------|---|------|--------|

問5 下線部dに関して述べた文として正しいものはどれか。次のア～エのうちから一つ選びなさい。

- 【 18 】
ア この乱がきっかけとなり、スペイン船の來航が禁止された。
イ キリシタン年人は由井正雪を首領に仰いだ。
ウ 幕府は老中松平信綱を派遣し、鎮圧した。
エ キリシタン農民らは熊本城跡に立てこもった。

問6 下線部eに関連して、鎖国体制確立までの過程について述べた次の文(i)～(iii)について、古いものから年代順に正しく配列したものを、下のア～エのうちから一つ選びなさい。

- 【 19 】
(i) ポルトガル船の來航を禁止した。
(ii) イギリスが平戸商館を閉鎖して退去した。
(iii) 日本人の海外渡航と帰国を全面的に禁止した。

- | | |
|---|----------------|
| ア | (i)～(ii)～(iii) |
| イ | (ii)～(i)～(iii) |
| ウ | (ii)～(iii)～(i) |
| エ | (iii)～(ii)～(i) |

問7 下線部fに関連して、朝鮮との対外窓口として正しいものはどれか。次のア～エのうちから一つ選びなさい。

- | | | | | | | | | |
|---|----|---|----|---|----|---|----|--------|
| ア | 対馬 | イ | 薩摩 | ウ | 松前 | エ | 博多 | 【 20 】 |
|---|----|---|----|---|----|---|----|--------|

〔Ⅲ〕 次の【文章A】・【文章B】を読んで、後の問いに答えなさい。

【文章A】

労働運動の進展とともに、その指導理論としての社会主義思想の研究が進み、1898年には社会主義の研究団体として社会主義研究会が設立された。1901年には日本最初の社会主義政党である社会民主党が結成されたが、前年に公布されていた【 1 】によって結成直後に解散に追いこまれた。社会主義運動はその後も続けられ、1906年には、【 2 】の融和政策もあって、最初の合法的な社会主義政党として日本社会党が結成された。しかし、大逆事件を契機に社会主義運動は「冬の時代」を迎え、一時衰退した。

次の史料は、社会民主党が結成された際の宣言文である。(史料には、一部省略したり、書き改めたりしたところもある。)

……我党ハ世界の大多数に露み、経済の趨勢を察し、純然たる社会主義と民主主義に依り、貧富の懸隔を打破して全世界に平和主義の勝利を得せしめんことを欲するなり。故に我党ハ左に掲ぐる理想に向つて着々進んことを期す。

- (一) 人種の差別、政治の異同に拘はらず、人類は皆同胞なりとの主義を拡張すること
- (二) 万国の平和を求むるには先づ軍備を全廃すること
- (三) 階級制度を全廃すること
- (四) 生産機関として必要なる土地及び資本を悉く公有とすること
- (五) 鉄道、船舶、運河、橋梁の如き交通機関は悉くこれを公有とすること
- (六) 財富の分配を公平にすること
- (七) 人民をして平等に政權を得せしむること……

(万朝報)

問1 空欄【 1 】・【 2 】にあてはまる語句として最も適切なのはどれか。次のア～エのうちから一つずつ選びなさい。

- | | | | | | | | | |
|------|--------|---|-------|---|---------|---|---------|----|
| 【1】ア | 議院律 | イ | 集会条例 | ウ | 治安警察法 | エ | 治安維持法 | 21 |
| 【2】ア | 伊藤博文内閣 | イ | 桂太郎内閣 | ウ | 山本権兵衛内閣 | エ | 西園寺公望内閣 | 22 |

問2 下線部aに関連して、高野房太郎らが労働運動を促進することを目的に1897年に結成した組織として正しいのはどれか。次のア～エのうちから一つ選びなさい。

- | | | | | |
|---|---------|---|---------|----|
| ア | 友愛会 | イ | 黎明会 | 23 |
| ウ | 日本労働総同盟 | エ | 労働組合期成会 | |

問3 下線部bについて述べた次の文(i)・(ii)の正誤の組み合わせとして最も適切なものはどれか。下のア～エのうちから一つ選びなさい。

24

- (i) 当時、鉄道事業は営業キロ数で民営が官営を上回っていた。
- (ii) 当時、鉄道国有法が廃止されて民営鉄道建設ブームが起こった。

- | | | | | | |
|---|------|-------|---|------|-------|
| ア | (i)正 | (ii)正 | イ | (i)正 | (ii)誤 |
| ウ | (i)誤 | (ii)正 | エ | (i)誤 | (ii)誤 |

問4 下線部cに関連して、この要求には普通選挙の実施が含まれていたが、いわゆる普通選挙法を成立させた第一次加藤高明内閣の時の出来事について述べた文として誤っているものはどれか。次のア～エのうちから一つ選びなさい。

25

- ア 憲政会・立憲政友会・革新倶楽部の護憲三派内閣として成立した。
- イ 幣原喜重郎外相による協調外交方針を展開した。
- ウ 日ソ基本条約に調印して日本とソ連の国交を樹立させた。
- エ 台湾銀行を救済するために緊急勅令を発して金融恐慌を取扱しようとした。

【文章B】

d 1955年に実施された衆議院議員総選挙で、左右に分裂していた【 3 】は改憲阻止に必要な3分の1の議席を獲得し、両派の統一を実現させた。保守側も、日本民主党と自由党が合同して自由民主党を結成し、保守合同を果たした。ここに、保守勢力が議席の3分の2弱を獲得し、革新勢力が3分の1を維持するという保守と革新の対立のもとで、自民党が一党優位を続ける55年体制が確立した。

1993年、【 4 】を首班とする連立内閣が成立すると、55年体制は崩壊し、自民党の長期単独政権は終焉を迎えた。しかし、【 4 】内閣は1年足らずで新生党の羽田孜内閣に代わり、羽田内閣も短命に終わった。次いで【 3 】委員長村山富市を首班とする内閣が成立すると、自民党は旧連立内部の分裂を利用し、この内閣と連立を組んで政権に復帰した。自民党と連立した村山首相は、議会で次の史料のように答弁し、党の基本政策を全面的に転換した。

冷戦の終結後も国際社会が依然不安定要因を内包している中で、我が国が引き続き安全を確保していくためには日米安保条約が必要であります。また、日米安保体制は、国際社会における広範な日米協力関係の政治的基盤となっておりますし、さらに、アジア・太平洋地域における安定要因としての米国の存在を確保し、この地域の平和と繁栄を促進するために不可欠となっております。(中略)

次に、自衛隊に関する憲法上の位置づけについての御質問でございます。(中略)私としては、専守防衛に徹し、自衛のための必要最小限度の実力組織である自衛隊は、憲法の認めるものであると認識するものであります。(中略)また(中略)今後とも、国際平和維持活動に対する協力については、憲法の枠内で、国際平和協力法に基づき積極的に行っていく所存であります。

(『官報』)

問5 空欄【 3 】・【 4 】にあてはまる語句として最も適切なものはどれか。次のア～エのうちから一つずつ選びなさい。

- 【3】ア 日本進歩党 イ 日本社会党 ウ 民社党 エ 民主党 26
 【4】ア 宮沢喜一 イ 海部俊樹 ウ 河野洋平 エ 細川護熙 27

問6 下線部dに関連して、1950年代の出来事について述べた文として正しいものはどれか。次のア～エのうちから一つ選びなさい。

- ア NHKのテレビ放送が開始された。 28
 イ 朝永振一郎がノーベル物理学賞を受賞した。
 ウ 大阪で日本万国博覧会が開催された。
 エ 奈良県高市郡明日香村で男女群像を極彩色で描いた高松塚古墳壁画が発見された。

問7 下線部eに関連して、保守合同が成立したのちに自由民主党の第三代総裁に就任し、日米安全保障条約の改定交渉をすすめた人物として正しいものはどれか。次のア～エのうちから一つ選びなさい。

- ア 吉田茂 イ 石橋湛山 ウ 岸信介 エ 佐藤栄作 29

問8 史料について述べた次の文(i)・(ii)の正誤の組み合わせとして最も適切なものはどれか。下のア～エのうちから一つ選びなさい。

- (i) 村山首相は、自衛隊は憲法上認められるとする認識を明らかにした。
 (ii) 村山首相は、自衛隊の海外派遣は憲法上認められないとする認識を明らかにした。

- ア (i)正 (ii)正 イ (i)正 (ii)誤
 ウ (i)誤 (ii)正 エ (i)誤 (ii)誤 30

【IV】 次の【文章A】～【文章C】を読んで、後の問いに答えなさい。

【文章A】

日本における銀の産出は大化改新後のことで、674年に対馬から銀が献上された。室町時代になって朝鮮から灰吹法の技術が伝えられると、銀の産出量は飛躍的に増大した。戦国時代までには各地に銀山が開発され、なかでも島根県の石見大森銀山では大規模な採掘が行われた。16世紀後半から17世紀前半にかけての東アジアでは、日本が有数の銀の採掘地域であり、南蛮貿易でも【 1 】をはじめとする輸入品の対価として銀が輸出された。

江戸時代には貨幣需要の増大にともなって、江戸幕府が金貨・銀貨などの鑄造権を掌握し、銀貨は丁銀や豆板銀などが流通した。しかし、三貨の相場はたえず変動していたことから、流通は必ずしも安定せず、幕府は貨幣改鑄をくりかえした。17世紀後半には銀の産出量は急激に減少し、長崎貿易によって金銀の海外流出が激しくなると、幕府はたびたび貿易額の制限を行った。

近代以降、東アジア貿易では銀で決済されることが多く、明治政府も1871年に制定した【 2 】で金本位制を建前としたが、実際は金銀複本位制であった。1885年に銀本位制を確立し、1897年に金本位制が確立するまで、銀貨を基本通貨とする貨幣制度が継続された。

問1 空欄【 1 】・【 2 】にあてはまる語句として最も適切なものはどれか。次のア～エのうちから一つずつ選びなさい。

- 【1】 ア 刀剣 イ 漆器 ウ 海産物 エ 生糸 **31**
 【2】 ア 新貨条例 イ 国立銀行条例 **32**
 ウ 貨幣法 エ 銀行法

問2 下線部aについて述べた次の文(イ)・(ロ)の正誤の組み合わせとして最も適切なものはどれか。下のア～エのうちから一つ選びなさい。

- (イ) 金貨は、両・分・朱の10進法で数えられる計数貨幣であった。
 (ロ) 銀貨は、取引のたびに目方をはかって品位を確認する秤量貨幣であった。

- ア (イ)正 (ロ)正 イ (イ)正 (ロ)誤
 ウ (イ)誤 (ロ)正 エ (イ)誤 (ロ)誤

問3 下線部bに関連して、銀本位制を確立した松方財政に関する説明として誤っているものはどれか。次のア～エのうちから一つ選びなさい。 **34**

- ア 増税によって歳入の増加をはかった。
 イ 官営鉱山や官営工場の私下げを中止した。
 ウ 中央銀行として日本銀行を設立した。
 エ 軍事費以外の歳出を緊縮した。

【文章B】

【 3 】の時代、武蔵から銅が献上され、これを材料として和同開珎が鑄造された。中世に入ると、銅山の開発や銅の精錬法の高度な発達もあって、銅の採掘量は飛躍的に伸びた。対中国貿易においても、銅は明への重要な輸出品であった。

江戸時代になると、貨幣鑄造のために金・銀・銅の需要が高まり、幕府や諸藩は銅山の開発に努力した。金銀の採掘量が減少する一方で、17世紀後半以降は銅の採掘量が増大し、長崎貿易の輸出品として重要視されるようになった。しかし、海外への流出が激しくなったため、【 4 】は1715年に海舶互市新例を発して長崎貿易額を制限し、金銀の流出を防ぐとともに銅の支払額にも制限をくわえた。

その後、日本の銅生産量は次第に減少した。明治時代になると機械化の進展などによって銅の生産量は持ち直したものの、足尾銅山での鉱毒事件など新たな問題が発生した。

問4 空欄【 3 】・【 4 】にあてはまる語句として最も適切なものはどれか。次のア～エのうちから一つずつ選びなさい。

- 【3】 ア 天武天皇 イ 持統天皇 ウ 元明天皇 エ 聖武天皇 **35**
 【4】 ア 新井白石 イ 田沼意次 ウ 松平定信 エ 水野忠邦 **36**

問5 下線部cに関連して、日明貿易に関する説明として誤っているものはどれか。次のア～エのうちから一つ選びなさい。 **37**

- ア 日本から明に行く勘合船は、勘合を持参した。
 イ 日本側の滞在費用は明が負担した。
 ウ 将軍足利義教の時に貿易は一時中断した。
 エ 勘合は入港先である寧波で審査され、交易は北京で行われた。

問6 下線部dに関連して、足尾銅山の操業停止を政府にせよめた栃木県選出の衆議院議員で、のちに議員を辞職して明治天皇に直訴を試みた人物として正しいものはどれか。次のア～エのうちから一つ選びなさい。

38

- ア 片山潜 イ 田中正造 ウ 三宅雪嶺 エ 鈴木文治

【文章C】

火山が多い日本では、古代から各所で硫黄が産出された。採掘地域としては豊後の九重山や薩摩の硫黄島などが知られる。中世では主要な輸出品であり、日宋貿易や日明貿易でも硫黄は重要な役割を果たした。近世に入って鉄砲が伝来すると、硫黄は火薬の材料として利用されるようになり、各地で硫黄鉱山の開発が進んだ。また、火薬製造の技術は、のちに花火をつくりだし、人々の平和な生活を支えた。

明治期に産業革命をむかえると、純度の高い国産硫黄はマッチの材料に用いられ、安価で良質であったため、世界中に輸出された。

問7 下線部eに関連して、鉄砲が最初に伝来した場所として正しいものはどれか。次のア～エのうちから一つ選びなさい。

39

- ア 和泉国一堺 イ 紀伊国一根来・雑賀
ウ 大隅国一種子島 エ 近江国一国友

問8 下線部fに関連して、近代産業の発展について述べた次の文(i)～(iii)について、古いものから年次順に正しく配列したものを、次のア～エのうちから一つ選びなさい。

40

- (i) 大阪紡績会社が設立され、機械紡績による大規模経営に成功した。
(ii) 官営八幡製鉄所が設立され、鉄鋼の国産化が進んだ。
(iii) 富岡製糸場が設立され、生糸の生産拡大がはかられた。

- ア (i)～(ii)～(iii)
イ (i)～(iii)～(ii)
ウ (ii)～(i)～(iii)
エ (ii)～(iii)～(i)
オ (iii)～(i)～(ii)
カ (iii)～(ii)～(i)

B11-1

日本史

解答番号

1

40

【I】 次の【史料A】・【史料B】を読んで、後の問いに答えなさい。

【史料A】

是に、天皇詔りたまひしく、「朕聞く、諸家の所費^{しやうひ}てる【1】と本辞と、既に正実に違ひ、多く虚偽を加ふ。今の時に当りて其の失を改めずは、幾年も経ずして其の旨滅びなむとす。斯れ乃ち、邦家の経緯、王化の鴻基なり。故、惟に【1】を撰び録し、旧辞を討ね竅め、偽を削り実を定め、後葉に流べちと欲ふ」と。時に舍人有り。姓は禰田、名は阿礼、年は廿八。為人聡明にして、目に度り口に語り、耳に払るれば心に轉す。即ち、阿礼に勅語して、帝皇の日繼と先代の旧辞とを誦習はしめたまひき。然れども、運移り世異りて、未だ其の事を行ひたまはざりき。……

焉に、旧辞の誤^{あやま}りへるを借しき、先紀の謬^{あやま}れを正さむとし、和銅四年九月十八日に、臣安万侶に詔して、禰田阿礼が所講る勅語の旧辞を撰び録して獻上らしむといへり。讀みて詔旨の隨に、子細に採り探ひぬ。然れども、上古の時は、言と意と並に辨^{わきま}にして、文を敷き句を構ふること、字に於ては難し。已に詞に因りて述べたるは、詞心に違はず。全く音を以て連ねたるは、事の趣更に長し。是を以て、今、或は一句の中、言と訓とを交へ用ひ、一事の内、全く訓を以て録しぬ。……大抵所記せるは、天地の開闢^{ひらく}けしより始めて、小治田の御世に訖る。……

和銅五年正月廿八日 正五位上勳五等太朝臣安万侶

（「古事記」序文）

奈良時代には平城京を中心とした貴族文化が花開いた。これを天平文化と呼ぶ。この頃様々な伝承や記録の編纂が行われ、【史料A】の「古事記」のほか「風土記」が編纂された。「風土記」のうち、【2】国風土記のみはほぼ完全な形で残っている。この頃の仏教は国家の保護を受け、都には鑑真が創建した【3】などの大寺院が建てられた。また、仏教理論の研究が進められ、唐都六宗が形成された。また東大寺の正倉院には、光明皇太后が寄進した聖武天皇遺愛の品々が現存しており、これらの品々から、天平文化の国際色ゆたかな性格を知ることができる。

B11-2

問1 空欄【1】～【3】にあてはまる語句として最も適切なものはどれか。次のア～エのうちから一つずつ選びなさい。

- | | | | | | | | |
|------|-----|---|-----|---|-----|---|------|
| 【1】ア | 天皇記 | イ | 帝紀 | ウ | 国記 | エ | 大日本史 |
| 【2】ア | 出雲 | イ | 常陸 | ウ | 豊後 | エ | 播磨 |
| 【3】ア | 元興寺 | イ | 興福寺 | ウ | 西大寺 | エ | 唐招提寺 |

問2 下線部aについて述べた次の文(i)・(ii)の正誤の組み合わせとして最も適切なものはどれか。下のア～エのうちから一つ選びなさい。

- (i) 神代から推古天皇に至るまでの物語を、漢字の音訓を用いて記録した。
 (ii) 太安万侶が筆録して、元明天皇に献上した。

- ア (i)正 (ii)正 イ (i)正 (ii)誤
 ウ (i)誤 (ii)正 エ (i)誤 (ii)誤

問3 下線部bについて、良弁らがとなえ、東大寺を中心とした学派として最も適切なものはどれか。次のア～エのうちから一つ選びなさい。

- ア 法華宗 イ 黄檗宗 ウ 華嚴宗 エ 浄土宗

【史料B】

(欽明天皇十三年)冬十月、百濟の【4】、……釈迦仏の金銅像一軀、幡蓋若干、経論若干巻を獻る。……(天皇)乃ち群臣に歴問して曰く、「西蕃の獻れる仏の相貌端嚴し。全ら未だ會て有ず。礼ふべきや不や」と。蘇我大臣【5】宿禰奏して曰さく、「西蕃の諸國、一に皆礼ふ。豊秋日本、豈欲り背かむや」と。物部大連尾興・中臣連鎌子、同じく奏して曰さく、「我が國家の、天下に王とましますは、恒に天地社稷の百八十神を以て、春夏秋冬、祭拜りたまふことを事とす。方に今改めて蕃神を拜みたまはば、恐るらくは國神の怒を致したまはむ」と。天皇曰く、「情願ふ人【5】宿禰に付けて、試みに礼ひ拜ましむべし」と。

(『日本書紀』)

『日本書紀』では西暦552年を仏教の公伝として記している。その約40年後、推古天皇の下で厩戸王は仏教を新しい政治理念とした。推古天皇の頃におこった文化を飛鳥文化といい、四天王寺や法隆寺などが建立され多くの仏像彫刻がつくられた。法隆寺は670年に焼失したと『日本書紀』に記載があり、その後再建されたかどうかわからず、明浄時代以降論争があったが、若草伽藍跡の発掘などから、現在の金堂・五重塔は焼失後に再建されたという説が有力となっている。

問4 空欄【4】・【5】にあてはまる語句として最も適切なものはどれか。次のア～エのうちから一つずつ選びなさい。

- 【4】ア 聖明王 イ 好太王 ウ 長寿王 エ 長屋王
 【5】ア 入鹿 イ 蝦夷 ウ 馬子 エ 稲目

問5 下線部cについて述べた次の文(i)・(ii)の正誤の組み合わせとして最も適切なものはどれか。下のア～エのうちから一つ選びなさい。

- (i) 元正天皇のときに完成した最古の官撰正史で、大伴家持が中心となり編纂された。
 (ii) 『日本書紀』以下六つの正史を六国史といい、漢文・編年体の体裁を共通とする。

- ア (i)正 (ii)正 イ (i)正 (ii)誤
 ウ (i)誤 (ii)正 エ (i)誤 (ii)誤

問6 下線部dに関連して、推古天皇の時代に関する説明として誤っているものはどれか。次のア～エのうちから一つ選びなさい。

- ア 冠位十二階は、氏族に対して世襲で冠位を与える制度であった。
 イ 憲法十七条は、豪族に国家の官僚としての自覚を求め、仏教を国家の精神的支柱としようとした。
 ウ 小野妹子が遣隋使として派遣された時の陪への国書は、中国皇帝に臣属しない形式をとった。
 エ この頃建立された寺院は、礎石・瓦を用いた新技法による大陸風建築であった。

問7 下線部eについて、鞍作鳥の作といわれる仏像彫刻として最も適切なものはどれか。次のア～エのうちから一つ選びなさい。

- ア 中宮寺半跏思惟像 イ 法隆寺夢殿救世観音像
 ウ 法隆寺金堂釈迦三尊像 エ 広隆寺半跏思惟像

〔II〕 次の文章を読んで、後の問いに答えなさい。

平安中期の地方では開発領主と呼ばれる人びとが力を持つようになつた。彼らは、国同からの圧迫を避けるために土地を有力な貴族や寺社へ寄進した。こうしてできた荘園を寄進地系荘園という。また、地方の各地に成長した豪族や有力農民らの中には、勢力を拡大するために武装し、馬に乗って戦うものもいた。彼らは家子といわれる一族や郎党などの従者を率いて互いに戦いを繰り返して、ときには国同に反抗した。

一方中央では、畿内近国に成長した豪族のなかから【1】として宮中の警備にあたり、貴族の身辺や都の市中の警備にあたるものが現れた。これらの集団が地方の武装集団と相互の交流を経て、やがて武士団が生まれた。その代表的なものが桓武平氏と清和源氏である。強力な武力を有する武士団は、10世紀に関東地方の大半を占領し、新皇と称して朝廷からの独立を宣言した【2】のように争乱を引き起こすこともあり、10世紀から11世紀にかけては武士による争乱が相次いだ。

1185年に平氏が滅亡すると、源頼朝はいわゆる守護・地頭の設置を認められ、地方の統治に深くかかわるようになった。頼朝は、諸国の荘園・公領の田地1段あたり5升の米を徴収する権限を与えられたが、この権限は2、3ヶ月で停止されている。頼朝の使者北条時政が入京して朝廷にいわゆる守護・地頭の設置を申し入れたとき、九条兼実がその日記「玉葉」に「言語の及ぶ所に非ず」と記しているように、朝廷や寺社の反発が強かったからと考えられる。

【3】年の承久の乱に勝利した鎌倉幕府は後鳥羽上皇方の公家や武士の所領3000余カ所を没収し、御家人たちをその地頭に任じた。幕府は新補率法を定め、田地1町につき1町の免田、所領全体について1段あたり5升の【4】をとる権利、さらに山や川の取益の半分を地頭の得分とした。これによって武士の土地管理者としての性格がさらに強まった。

このように、地方における武士の勢力は、幕府の権力の伸張とともに、しだいに強大になっていった。彼らは耕地の拡大と自らの支配権の拡大につとめたので、荘園・公領の領主や、所領の近隣の武士との間で紛争をおこすことが多くなつた。とくに承久の乱後は、畿内・西国地方にも東国出身の武士たちが地頭として進出したため、現地の支配権をめぐって、紛争はますます拡大した。紛争の解決方法としては、【5】があった。これは、土地自体を折半し、地頭と領主とが土地・住民をわけて完全な支配権を認め合う取り決めであった。

鎌倉時代の武士のなかには、開発領主の系譜をひくものも多かった。彼らは土地の管理者として、自ら館の周りに堀や溝をつくり、堀や高く土を盛った土塁をめぐらして襲撃に備えるとともに、館の内外では騎射三物などの、武芸の訓練を兼ねた遊びを行うなど、平時においても武力の維持に余念がなかった。

B日-5

問1 空欄【 1 】～【 5 】にあてはまる語句として最も適切なものはどれか。次のア～エのうちから一つずつ選びなさい。

- 【1】 ア 北面の武士 イ 滝口の武者 ウ 追捕使 エ 西面の武士 **11**
- 【2】 ア 平将門 イ 平貞盛 ウ 平貞盛 エ 藤原純友 **12**
- 【3】 ア 1190 イ 1203 ウ 1216 エ 1221 **13**
- 【4】 ア 加叡米 イ 兵糧米 ウ 加地子 エ 大唐米 **14**
- 【5】 ア 半済 イ 地頭請 ウ 下地中分 エ 守護請 **15**

問2 下線部aに関連して、寄進地系荘園に関する説明として誤っているものはどれか。次のア～エのうちから一つ選びなさい。

- ア 開発領主から寄進を受けた荘園の領主を領家といい、さらに寄進された上級の領主は本家とよばれた。 **16**
- イ 太政官符や民部省符によって税の免除が認められた荘園は国免荘と呼ばれた。
- ウ この時期の荘園の耕地は名に編成され、年貢は名主が請け負っていた。
- エ 国内の耕作状況を調査するために派遣された検田使の立ち入りを認めない、不入の特権を得る荘園もあった。

問3 下線部bについて、清和源氏の祖として正しいものはどれか。次のア～エのうちから一つ選びなさい。

- ア 源満仲 イ 源頼光 ウ 源頼朝 エ 源経基 **17**

問4 下線部cに関連して、武士による争乱に関して述べた次の文(i)～(iii)について、古いものから年代順に正しく配列したものはどれか。下のア～エのうちから一つ選びなさい。

- (i) 清原氏一族に内紛がおこると、陸奥守源義家が介入し、藤原(清原)清衡を助けて制圧した。
- (ii) 平清盛と結ぶ藤原通憲に反感をいだいた藤原信賴が、源義朝と結んで兵をあげ、通憲を自殺に追い込んだ。
- (iii) 上総で平忠常の乱がおこると、源頼信が鎮圧して、源氏の東国進出のきっかけをつくった。

- ア (i) - (ii) - (iii)
- イ (ii) - (i) - (iii)
- ウ (ii) - (iii) - (i)
- エ (iii) - (i) - (ii)

B日-6

問5 下線部dに関して、鎌倉時代の武家社会について述べた次の文(i)・(ii)の正誤の組み合わせとして最も適切なものはどれか。下のア～エのうちから一つ選びなさい。

- (i) 鎌倉時代を通して、女性の地位は低く、女性が財産を相続することはなかった。
- (ii) 惣領が一族を代表して軍役・課役を引き受け、一族内で分担して奉仕した。
- ア (i)正 (ii)正 イ (i)正 (ii)誤 **19**
- ウ (i)誤 (ii)正 エ (i)誤 (ii)誤

問6 下線部eについて、騎射三物として誤っているものはどれか。次のア～エのうちから一つ選びなさい。

- ア 流鏑馬 イ 巻狩 ウ 犬追物 エ 笠懸 **20**

【Ⅲ】 次の【文章A】・【文章B】を読んで、後の問いに答えなさい。

【文章A】

享保・天明の飢饉により百姓一揆や打ちこわしが多発し、欧米列強が近海に現れるという危機に対処するため、徳川幕府では寛政の改革がすすめられた。同じ頃、諸大名による藩政改革が広く行われた。その特徴は、藩主自らが改革の先頭に立ち、藩士の編制を引き締めて倭約や統制を強め、財政危機を克服することで藩政を立て直そうとしたことにある。

熊本藩主の細川重賢は、有能な人材を登用し、財政の緊縮、農村の復興、藩校【1】の設立などの改革を断行して、藩政改革の模範となった。

松江藩主の松平治郷は、農村の復興と財政の緊縮のほか、人参・陶器・紙・蠶の生産を奨励し、殖産興業政策にめざましい成果をあげた。なお、松平治郷は江戸時代を代表する茶人として有名で「不味」の号で知られる。

米沢藩主の【2】は、倭約令をはじめとする藩政改革を断行した。彼は家督を譲ってからも藩主の後見役という立場で藩政改革を指導し、農村支配機構の整備、漆・桑などの植立計画、米沢織の発展など殖産興業を推進した。また、藩校の興隆館を再興し、折衷学派の儒者細井平洲を招くなど文教興隆にも力を入れた。

秋田藩主の佐竹義和は養蚕・織物などの産業を奨励し、藩校明徳館を設立した。

これら藩政を立て直しに成果をあげた藩主たちは「名君」とみなされた。

問1 空欄【1】・【2】にあてはまる語句として最も適切なものはどれか。次のア～エのうちから一つずつ選びなさい。

- 【1】ア 弘道館 イ 日新館 ウ 明倫館 エ 時習館 21
 【2】ア 上杉憲実 イ 上杉治憲 ウ 上杉景勝 エ 上杉謙信 22

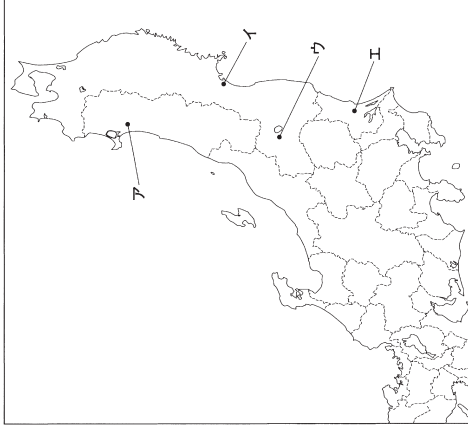
問2 下線部aに関連して、茶の湯（茶道）について述べた次の文(i)・(ii)の正誤の組み合わせとして最も適切なものはどれか。下のア～エのうちから一つ選びなさい。

- (i) 武野紹鷗が、茶と禅の精神の統一を主張し、茶室で心の静けさを求める佗茶を創出した。23
 (ii) 妙喜庵待庵は簡素な2畳の茶室で、千利休の作といわれる。
- ア (i)正 (ii)正 イ (i)正 (ii)誤
 ウ (i)誤 (ii)正 エ (i)誤 (ii)誤

問3 下線部bに関連して、江戸時代に織られた絹織物として正しいものはどれか。次のア～エのうちから一つ選びなさい。

- ア 丹後縮緬 イ 奈良晒 ウ 久留米緋 エ 小倉織 24

問4 下線部cについて、明徳館の場所として正しいものを、下の地図上のア～エのうちから一つ選びなさい。



【文章B】

19世紀中頃になると、幕府が内憂外患に悩まされる一方で、諸藩も領内の一揆・打ちこわしの多発や藩政の困難など、藩政の危機に直面していた。この危機を打開し、藩権力の強化をめざす藩政改革が、多くの藩で行われた。

500万両にのぼる藩債をかかえていた薩摩藩では、側用人【3】を財政担当の家老に登用し、この負債を無利息250年賦という事実上の帳消しによって整理した。さらに、琉球を通して清と密貿易をおこない収益を上げ、財政再建に成功した。また、島津斉彬は鹿児島に反射炉を築造し、造船所やガラス製造所を建設した。

長州藩では、紙・蠶の専売が行われ商品経済化がすすんでいたが、約140万両という巨額の負債をかかえていたため藩財政を立て直しに乗り出した。さらに、下関に【4】という役所を設け、他国廻船のもたらす物産を振当に、廻船業者などに資金の貸付けを行ったほか、その物産を買い取って委託販売する

などとして利益をあげて藩の財源とし、洋式武器の購入などにより軍事力の強化がはかられた。
佐賀藩では、藩主鍋島直正が均田制を実施し、地主から没収した小作地を小作人に再配分して、本百姓
体制の再建をはかった。また特産の陶磁器の専売制を進めて藩財政に余裕を生み出し、反射炉を備えた大
砲製造所を設けるなど、藩の権力を強化した。

これらの藩政改革に成功した藩は「雄藩」として幕末の政局に影響をもつようになっただが、水戸藩の
ように、藩主【 5 】の努力にもかかわらず、藩内抗争のために改革がうまく進まなかった例もある。

問5 空欄【 3 】～【 5 】にあてはまる語句として最も適切なものはどれか。次のア～エのうち
から一つずつ選びなさい。

- 【3】 ア 村田清風 イ 間部詮房 ウ 柳沢吉保 エ 調所広郷 **26**
- 【4】 ア 越前方 イ 藏元 ウ 掛屋 エ 札差 **27**
- 【5】 ア 徳川斉昭 イ 徳川光圀 ウ 徳川慶喜 エ 徳川頼房 **28**

問6 下線部dに関連して、薩摩藩に関して述べた文として誤っているものはどれか。次のア～エのうち
から一つずつ選びなさい。

- ア 薩摩の島津家久の軍は琉球王国を侵攻し、薩摩藩の影響下に置いた。 **29**
- イ 薩摩藩主島津斉彬は、将軍継嗣問題で、紀伊藩主徳川慶福を推した。
- ウ 神奈川宿に近い生麦で、江戸から帰る途中の島津久光の行列を横切ったイギリス人を薩摩藩士
が殺傷した。
- エ 生麦事件の報復のため鹿児島沖に來航したイギリス艦隊と薩摩藩が交戦した。

問7 下線部eに関連して、佐賀（肥前）藩の特産の陶磁器で、伊万里焼とも呼ばれた陶磁器として正し
いものはどれか。次のア～エのうちから一つ選びなさい。 **30**

- ア 萩焼 イ 常滑焼 ウ 有田焼 エ 珠洲焼

【IV】 次の文章を読んで、後の問いに答えなさい。

1881年になると、板垣退助を総理として自由党が結成された。またその翌年には、大隈重信を党首に立
憲改進黨が結成された。この2つの政党勢力は議院開設後は民党として、政府系の吏党と対立する勢力と
なった。

1892年に成立した第2次伊藤博文内閣は維新に功績があった政治家を多数入閣させたため「元勳内閣」
と称されたが、日清戦争後における政権運営では、政党勢力との融和をはかり板垣退助が内務大臣として
入閣した。一方で立憲改進黨は、大隈の脱党などの曲折を経ながら、1896年に結成された進歩党の母体と
なった。1898年、進歩党と自由党が合同して【 31 】が結成され、日本最初の政党内閣である第1次大
隈重信内閣が組織された。同内閣が共和演説事件をきっかけに崩壊した後、【 31 】は旧進歩党系勢力
を締め出して再編をはかったが1900年には解党し、伊藤博文を総裁とする立憲政友会の結成に参加した。

立憲政友会は1910年代初頭の「大正政変」の際、「閥族打破、憲政擁護」をめざす勢力の一翼となって、藩
閥勢力を攻撃した。この運動に対し、第3次桂内閣は立憲国民党の一部と中央俱樂部を母体に新党を結成
して対抗しようとしたが、その直後に退陣を余儀なくされた。桂の死後に結成式をあげた立憲同志会の総
裁には【 32 】が就任し、シームレス事件の後に成立した第2次大隈内閣では、与党の中核となった。

1924年になると、貴族院の勢力を背景とする清浦奎吾内閣の成立にともなって、再び護憲運動が起きた。
立憲政友会、憲政会および革新倶楽部の3党は、清浦内閣を「超然内閣」として批判して倒閣運動を行
い、総選挙での圧勝を受けて、憲政会総裁の【 32 】を首相とする連立内閣（のち単独内閣）が組織さ
れた。このうち立憲政友会の総裁と、憲政会が政友本党と合同して成立した【 33 】の総裁が交互に内
閣を組織する、「憲政の常道」の時期が続いた。しかし、【 34 】によって大隈内閣が倒れると「憲政の
常道」は終焉を迎え、1940年の新体制運動の結果、政党は解体されて大政翼賛会が組織された。

第二次世界大戦が終わると、政党政治が復活した。占領期には複数の政党が結党され、連立政権なども
誕生したが、サンフランシスコ平和条約の締結によって、政治勢力の再編が促された。革新勢力の日本社
会党は、1951年、平和条約および日米安全保障条約に反対する左派と、平和条約には賛成の右派とに分裂
した。また、保守勢力においては1954年に反吉田勢力が結集し、鳩山一郎を総裁とする【 35 】を結成
した。1955年になると、憲法改正と再軍備を追求する保守勢力に対抗するため日本社会党の左右両派が統
一され、これに対して保守陣営も【 35 】と自由党との保守合同を行い、自由民主党が結成された。こ
うして、55年体制とよばれる二大政党による政治体制が40年近くにわたって続くことになった。

問1 文中の空欄【31】～【35】にあてはまる最も適切な語句はどれか。次のア～コのうちから一つずつ選びなさい。

- ア ニ・二六事件 イ 立憲民政党 ウ 原敬 **31**
 エ 日本新党 オ 日本民主党 カ 憲政本党 **32**
 キ 加藤高明 ク 若槻礼次郎 ケ 五・一五事件 **33**
 コ 憲政党 **34** **35**

問2 下線部aに関連して述べた文として正しいものはどれか。次のア～エのうちから一つ選びなさい。

- ア この内閣の時に、品川弥二郎による大規模な選挙干渉が行われた。 **36**
 イ この内閣の時に、明治天皇が詔書を発したこともあり、海軍拡張計画の予算案が可決された。
 ウ この内閣の時には、大津事件が発生したため、条約改正交渉が進展しなかった。
 エ この内閣は、政費節減・民力休養を主張する民党に激しく攻撃されたが、自由党の一部を切りくずして予算を成立させた。

問3 下線部bについて、大正政変を引きおこした要因として第2次西園寺内閣の2個師団増設問題をあげることができる。このとき、天皇に上奏して単独辞任した陸軍大臣として正しいものはどれか。次のア～エのうちから一つ選びなさい。

- ア 寺内正毅 イ 大村益次郎 ウ 山県有朋 エ 上原勇作 **37**

問4 下線部cに関連して述べた次の文(i)・(ii)の正誤の組み合わせとして最も適切なものはどれか。下のア～エのうちから一つ選びなさい。

- (i) 大政翼賛会発足以前に、平沼騏一郎を中心に「一國一党」を目指す新体制運動が行われた。
 (ii) 大政翼賛会は末端組織に町内会・部落会・隣組を組み込むようになり、戦争遂行の上意下達
 の機関として機能した。 **38**

- ア (i)正 (ii)正 イ (i)正 (ii)誤
 ウ (i)誤 (ii)正 エ (i)誤 (ii)誤

問5 下線部dについて、民主党・日本社会党・国民協同党の連立内閣である芦田均内閣が倒れる発端となった事件として正しいものはどれか。次のア～エのうちから一つ選びなさい。

- ア リクルート事件 イ 造船疑惑事件 **39**
 ウ 昭和電工事件 エ ロッキード事件

問6 下線部eについて、1952年に締結された日米安全保障条約の細目協定として正しいものはどれか。次のア～エのうちから一つ選びなさい。

- ア 日米行政協定 イ 日米地位協定 **40**
 ウ MSA協定 エ 日米安保共同宣言

MEMO

Handwriting practice lines consisting of 30 horizontal dotted lines.



世界史



<大学受験パスナビ 桃山学院大学ページ>

https://passnavi.evidus.com/search_univ/4350/kakomon.html

※桃山学院大学、桃山学院教育大学の過去問題掲載



A 世①-1

A 世①-2

世界史

解答番号

1

~

40

〔I〕 次の文章A~Cを読んで、後の問いに答えなさい。

A

4世紀半ばから7世紀半ばにかけての朝鮮半島は、高句麗・百濟・新羅が覇権を争う朝鮮三国時代であった。唐と同盟し、百濟・高句麗に勝利した新羅は、676年に唐の軍勢を排除して朝鮮半島の統一を実現した。首都の【A】には多くの古墳や王陵、寺院が残されており、仏国寺に代表されるように仏教が導入された。また新羅では、【B】制と呼ばれる特権的な身分制度が存在した。

問1 文中の空欄【A】・【B】に当てはまる最も適切な語句はどれか。次のア~エのうちから一つずつ選びなさい。

- 【A】 ア 上京龜泉府 イ 開城
- ウ 慶州 エ 平城
- 【B】 ア 骨品 イ 三長
- ウ 八旗 エ 佃戸

1

2

問2 文中の下線部①・②について、以下の問いに答えなさい。

① 唐代の出来事を述べた次の文(i)~(iii)について、古いものから年代順に正しく配列したものはどれか。下のア~カのうちから一つ選びなさい。

- (i) 貴族の乱が勃発した。
- (ii) 玄奘がインドに赴いた。
- (iii) 兩税法が施行された。

- ア (i) - (ii) - (iii)
- イ (i) - (iii) - (ii)
- ウ (ii) - (i) - (iii)
- エ (ii) - (iii) - (i)
- オ (iii) - (i) - (ii)
- カ (iii) - (ii) - (i)

3

② 世界史上の王陵や墳墓について述べた次の文a・bの正誤の組み合わせとして、正しいものどれか。下のア~エのうちから一つ選びなさい。

- a ピラミッドは、エジプトの古王国時代に盛んに造営された。
- b 始皇帝の陵の墓域からは、兵馬俑という人馬をかたどった陶製の像が出土した。

- ア a - 正 b - 正 イ a - 正 b - 誤
- ウ a - 誤 b - 正 エ a - 誤 b - 誤

4

B

高麗を建国した【C】は新羅と後百濟を滅ぼし、936年に朝鮮半島を統一した。高麗では11世紀に版本が彫られ、高麗版【D】として刊行されるなど、仏教文化が栄華を極めた。13世紀には世界初の金属活字が作られ、活版印刷が行われたとされる。また宋の青磁に影響を受けた高麗青磁は、翡色青磁など高麗独特の色調を今に伝えている。

問3 文中の空欄【C】・【D】に当てはまる最も適切な語句はどれか。次のア~エのうちから一つずつ選びなさい。

- 【C】 ア 王維 イ 李成桂
- ウ 李世民 エ 王建
- 【D】 ア 仏典結集 イ 四六辭體
- ウ 大藏經 エ 八正道

5

6

問4 文中の下線部③・④について、以下の問いに答えなさい。

③ 各地の仏教文化について述べた次の文の空欄【a】・【b】に当てはまる語句の組み合わせとして、最も適切なものはどれか。下のア~エのうちから一つ選びなさい。

インドから仏教が伝わったタイやビルマでは【a】が信仰されている。一方、中国には1世紀頃伝えられ、西域から来た【b】らによって仏典が翻訳された。

- ア 【a】 - 大乘仏教 【b】 - 鳩摩羅什
- イ 【a】 - 大乘仏教 【b】 - 寇謙之
- ウ 【a】 - 上座部仏教 【b】 - 鳩摩羅什
- エ 【a】 - 上座部仏教 【b】 - 寇謙之

7

- ④ 13世紀の諸地域で起こった出来事について述べた文として、正しいものはどれか。次のア～エのうちから一つ選びなさい。

- ア オットー1世が戴冠し、神聖ローマ帝国が成立した。
 イ インド北部では、奴隸王朝が成立した。
 ウ 聖地回復を目的とした第1回十字軍が発発した。
 エ ササン朝が、イスラーム勢力に敗れて滅亡した。

8

C

首都を漢城（現在のソウル）として、1392年に朝鮮王朝が成立した。この王朝は明および清と朝貢関係を結び、それまでの仏教に代わって朱子学を国学とした。15世紀の世宗の治世期に最盛期となり、従来の漢字に代わる民族文字として【 E 】【 F 】が制定された。16世紀になると、様々な特権をもつ【 F 】と いわれる有力な家柄が官僚の地位を占めるようになり、政治上の実権を求めて党争を繰り返した。17世紀以来、朝鮮は中国と日本とのみ外交関係を維持してきたが、19世紀には欧米諸国が開国を迫るようになり、朝鮮内部では、攘夷派と改革派が対立するようになった。

- 問5 文中の空欄【 E 】【 F 】に当てはまる最も適切な語句はどれか。次のア～エのうちから一つ選びなさい。

- 【E】ア 字喃（チュノム） イ 訓民正音
 ウ 契丹文字 エ 隷書
 【F】ア 郷勇 イ 統監
 ウ 回班 エ 華僑

9

10

- 問6 文中の下線部⑤～⑦について、以下の問いに答えなさい。

- ⑤ 歴代の中国王朝と朝貢関係を結んだ国と、その国が支配した地域の組み合わせとして、誤っているものはどれか。次のア～エのうちから一つ選びなさい。

- ア 渤海 — 中国東北地方
 イ マラッカ王国 — マレー半島
 ウ 琉球王国 — 沖縄地方
 エ 南詔 — チベット高原

11

- ⑥ 朱子学について述べた次の文の空欄 a ・ b に当てはまる語句の組み合わせとして、最も適切なものはどれか。下のア～エのうちから一つ選びなさい。

朱子学（宋学）は北宋の a に始まり、南宋の朱熹が大成した。朱熹は、君臣・父子などの上下の秩序を絶対視する b を主張した。

- ア a - 周敦頤 b - 大義名分論
 イ a - 周敦頤 b - 知行合一
 ウ a - 孔穎達 b - 大義名分論
 エ a - 孔穎達 b - 知行合一

12

- ⑦ 攘夷派と開国派が対立する中で起こった出来事を述べた次の文（i）～（iii）について、古いものから年代順に正しく配列したものはどれか。下のア～カのうちから一つ選びなさい。

- (i) 釜山などの3港が開港された。
 (ii) 金華準らが甲午農民戦争を起こした。
 (iii) 甲申政変が起こり、閔氏政権が倒された。

13

- ア (i) - (ii) - (iii)
 イ (i) - (iii) - (ii)
 ウ (ii) - (i) - (iii)
 エ (ii) - (iii) - (i)
 オ (iii) - (i) - (ii)
 カ (iii) - (ii) - (i)

A 世①-5

A 世①-6

【II】 次の文章 A・B を読んで、後の問いに答えなさい。

A
イギリスとフランスはドーヴェー海峡を挟んで対峙しており、古来より抗争が続いた。英仏間の百年戦争の原因は、産業利権の対立に加えて、フランス王家が断絶した後、イングランド王【 A 】が王位継承権を主張したことであった。この戦争は1339年から1453年までの100年以上にわたって断続的に行われたが、エドワード黒太子率いる軍がボワティエの戦いに勝利するなど、戦争序盤はイギリスが優勢であった。その後フランスでは内紛が生じ、各地で敗戦を重ねた結果、フランス王シャルル7世が【 B 】で包囲され、絶体絶命状態に陥った。この危機に現れたのがジャンヌ＝ダルクである。彼女は神託を信じてフランス軍に身を投じると、土気の上上がった軍隊を率いて【 B 】を解放し、戦局は一変した。この勝利をきっかけにシャルル7世はフランスで戴冠し、フランスが攻勢をかけてイギリスは大陸から撤退した。フランスでは戦争勝利の結果、官僚制と常備軍を整備して中央集権化が進められたほか、イギリスでは【 C 】を経てテューダー朝が成立し、絶対王政の基盤を作っていた。

問1 文中の空欄【 A 】～【 C 】に当てはまる最も適切な語句はどれか。次のア～エのうちから一つずつ選びなさい。

- 【A】 ア エドワード1世 イ エドワード3世
- ウ ヘンリ2世 エ ヘンリ3世
- 【B】 ア パリ イ アヴィニョン
- ウ カレー エ オルレアン
- 【C】 ア バラ戦争 イ ユグノー戦争
- ウ 三十年戦争 エ スコットランドの反乱

問2 文中の下線部①～④について、以下の問いに答えなさい。

① 百年戦争で争点となった地域と、その地域で盛んであった産業の組み合わせとして、正しいものはどれか。次のア～エのうちから一つ選びなさい。

- ア フランドル地方 — 毛織物産業
- イ フランドル地方 — 絹織物産業
- ウ ラヴェンナ地方 — 毛織物産業
- エ ラヴェンナ地方 — 絹織物産業

A 世①-5

A 世①-6

② 百年戦争勃発前に交替したフランス王朝の順番として、正しいものはどれか。次のア～エのうちから一つ選びなさい。

- ア ヴァロワ朝 → カペー朝
- イ カペー朝 → ヴァロワ朝
- ウ カロリング朝 → メロヴィング朝
- エ メロヴィング朝 → カロリング朝

18

③ 百年戦争と同じ頃に諸地域で起こった出来事について述べた文として、正しいものはどれか。次のア～エのうちから一つ選びなさい。

- ア ドイツでは、神聖ローマ皇帝選出の手続きを巡って「金印勅書」が発布された。
- イ ビルマではバガン朝がおこり、雲南とベンガル湾を結ぶ交易で繁栄した。
- ウ フランスでは、パリ市民がバスティーユ年獄を襲撃した。
- エ 中国では大運河が完成し、江南と華北が結ばれた。

19

④ テューダー朝について述べた次の文 a・b の正誤の組み合わせとして、正しいものはどれか。次のア～エのうちから一つ選びなさい。

- a ヘンリ8世は、国王至上法によりイギリス国教会を成立させた。
 - b エリザベス1世はアルマダの海戦で敗北し、スペインに海上覇権を奪われた。
- ア a-正 b-正 イ a-正 b-誤
 - ウ a-誤 b-正 エ a-誤 b-誤

20

B

17世紀後半から19世紀前半にかけて行われた英仏の植民地争奪戦は、第二次英仏百年戦争と呼ばれている。この争いは七年戦争などのヨーロッパでの戦争に呼応し、北米やインドで行われた。特にインドにおいて植民都市を建設していた英仏は当地で激しく対立した。インド南部でのカーナティック戦争は3回にわたって戦い、最終的にイギリスが勝った。この戦いで戦功をあげたイギリス東インド会社書記のクラークは、七年戦争に乗じて行われた【 D 】でも活躍し、イギリス領インドの基礎を築いた。一方、北米でも【 E 】戦争に勝利したイギリスが、フランスから領土を獲得した。イギリスはこの後、北米とインドの経営を進めていくことになるが、七年戦争によって財政がひっ迫し、北米植民地に重税をかけたことで、アメリカ独立戦争につながった。またフランスはインドの支配を断念し、【 F 】へ進出していく契機となった。

問3 文中の空欄【 D 】～【 F 】に当てはまる最も適切な語句はどれか。次のア～エのうちから一つずつ選びなさい。

- 【D】ア ブラタイアの戦い イ ブラッシーの戦い 21
 ウ レキシントンの戦い エ シク戦争
 【E】ア 北方 イ ファルツ 22
 ウ フレンチ=インディアン エ アメリカ=イギリス
 【F】ア インドシナ半島 イ マレー半島 23
 ウ セイロン島 エ ジャワ島

問4 文中の下線部⑤～⑦について、以下の問いに答えなさい。

⑤ 七年戦争の係争地となった地域の名称と最終的にそこを領有した国の組み合わせとして、正しいものはどれか。次のア～エのうちから一つ選びなさい。 24

- ア ベーメン - オーストリア
 イ ベーメン - プロイセン
 ウ シュレジエン - オーストリア
 エ シュレジエン - プロイセン

⑥ 英仏のインド植民地について述べた次の文a・bの正誤の組み合わせとして、正しいものはどれか。下のア～エのうちから一つ選びなさい。 25

- a イギリスは、インド西岸のゴアを拠点とした。
 b フランスは、インド東岸のカルカッタを拠点とした。
- ア a - 正 b - 正 イ a - 正 b - 誤
 ウ a - 誤 b - 正 エ a - 誤 b - 誤

⑦ アメリカ独立戦争に至る経緯について述べた次の文の空欄 a・b に当てはまる語句の組み合わせとして、最も適切なものはどれか。下のア～エのうちから一つ選びなさい。 26

北米における戦いに勝利したイギリスは、a などをフランスから獲得した。ところが、重商主義的な本国の諸課税政策に不満がたまっていた北米の植民地住民は1773年に b を起こし、イギリスの強権的な政策に反発した。

- ア a - カナダ b - アンボイナ事件
 イ a - カナダ b - ボストン茶会事件
 ウ a - アラスカ b - アンボイナ事件
 エ a - アラスカ b - ボストン茶会事件

④ ビザンツ帝国の出来事を選べた次の文 (i) ~ (iii) について、古いものから年代順に正しく配列したものはどれか。下のア~カのうちから一つ選びなさい。

35

- (i) キリシヤ語が公用語とされた。
- (ii) キリシヤ正教会とローマ=カトリック教会が分裂した。
- (iii) ヴァンダル王国を滅ぼした。

- ア (i) → (ii) → (iii)
- イ (i) → (iii) → (ii)
- ウ (ii) → (i) → (iii)
- エ (ii) → (iii) → (i)
- オ (iii) → (i) → (ii)
- カ (iii) → (ii) → (i)

C

16世紀初頭にイランで興ったサファヴィー朝は、【 C 】王朝としてオスマン帝国と対立した。【 D 】は強力な中央集権化を推し進め、16世紀末から17世紀前半にかけて最盛期を迎えた。この時期にイスファハーンへ遷都し、この都は「世界の半分」といわれるほど栄華を誇ったほか、【 E 】からポルトガル勢力の追放に成功した。17世紀後半からは名君に恵まれず衰退し、18世紀にアフガン人の侵入で滅亡した。

問5 文中の空欄【 C 】 ~ 【 E 】に当てはまる最も適切な語句はどれか。次のア~エのうちから一つずつ選びなさい。

36

- 【 C 】 ア シーナ派
- ウ 単性論派

37

- 【 D 】 ア イスマーイール
- ウ ババレヴィー2世

38

- 【 E 】 ア シナイ半島
- ウ バレスチナ
- イ シーア派
- エ アルビジョフ派
- イ ムアーウィヤ
- エ アッバース1世
- イ カフカス
- エ ホルムズ島

問6 文中の下線部⑤・⑥について、以下の問いに答えなさい。

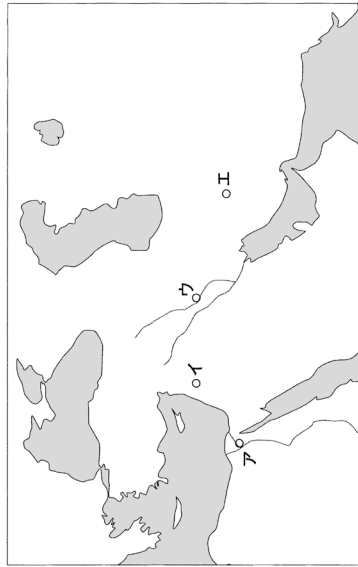
⑤ 16世紀末から17世紀前半の世界について述べた文として、正しいものはどれか。次のア~エのうちから一つ選びなさい。

39

- ア イギリスでは、産業革命が始まった。
- イ フランスでは、ルイ16世の治世であった。
- ウ 中国では、明朝が滅亡した。
- エ ベトナムでは、李朝大越国が独立した。

⑥ イスファハーンの位置として正しいものはどれか。次の地図中のア~エのうちから一つ選びなさい。

40



A 世②-1

A 世②-2

世界史

解答番号

1

40

〔I〕 次の文章 A・B を読んで、後の問いに答えなさい。

A

13世紀はモンゴル人の世紀である。そのすさまじさは世界地図を広げて拡大の変遷をたどれば明らかだろう。部族会議の【 1 】で1206年に即位したチンギス=ハンは、^①アルタイ山脈から中央アジアを制圧し、モンゴルの領域は大幅に拡大した。第2代ハンの【 2 】は金を滅ぼして華北を手に入れたと、^②バトゥを東欧に派遣し、ヨーロッパを襲撃させた。第4代ハンの【 3 】の時代には、彼の弟たちによつてモンゴルの領域はさらに拡大する。フラグが中東に侵入して【 4 】朝を滅ぼしたほか、フビライがチベットから雲南地方を征服した。このフビライが中国の南宋を掌握し、モンゴル民族はユーラシア大陸の大部分を領域とする空前の大帝国を実現した。^③

問1 文中の空欄【 1 】～【 4 】に当てはまる最も適切な語句はどれか。次のア～コのうちから一つずつ選びなさい。

- | | | | | |
|---|-------|---|-------|---|
| ア | 清談 | ウ | モンケ | 1 |
| イ | アッパース | エ | オゴタイ | 2 |
| オ | ク | カ | クレルモン | 3 |
| ク | ブワイフ | ケ | エセン | 4 |
| コ | クリルタイ | | | |

問2 文中の下線部①～③について、以下の問いに答えなさい。

① チンギス=ハンの遠征について述べた次の文の空欄【 a 】・【 b 】に当てはまる語句の組み合わせとして、最も適切なものはどれか。下のア～エのうちから一つ選びなさい。 【 5 】

騎馬軍を率いたチンギス=ハンは、西では1218年に【 a 】を滅ぼして併合し、さらに西トルキスタンからイラン高原で勢力をのばしていたホラズム=シャー朝を倒した。その後、東に進んだチンギス=ハンは、1227年に【 b 】を滅ぼした。

- | | | | | |
|---|-------|------|-------|----|
| ア | 【 a 】 | キルギス | 【 b 】 | 西遼 |
| イ | 【 a 】 | キルギス | 【 b 】 | 西夏 |
| ウ | 【 a 】 | ナイマン | 【 b 】 | 西遼 |
| エ | 【 a 】 | ナイマン | 【 b 】 | 西夏 |

② バトゥがドイツ・ポーランドの連合軍に勝利した戦いの名称と、彼が南ロシアを中心に建国した国名の組み合わせとして、正しいものはどれか。次のア～エのうちから一つ選びなさい。 【 6 】

- | | | | |
|---|-------------|---|-----------|
| ア | ワールシュテットの戦い | ー | チャガタイ=ハン国 |
| イ | ワールシュテットの戦い | ー | キプチャク=ハン国 |
| ウ | カタラウスムの戦い | ー | チャガタイ=ハン国 |
| エ | カタラウスムの戦い | ー | キプチャク=ハン国 |

③ チベットと雲南地方の歴史について述べた次の文 a・b の正誤の組み合わせとして、正しいものはどれか。下のア～エのうちから一つ選びなさい。 【 7 】

- | | |
|---|-----------------------------|
| a | チベット高原では、ソンツェン=ガンボが吐蕃を建国した。 |
| b | 雲南地方の大理は、フビライの進軍により滅亡した。 |

- | | | | | | |
|---|-----|-----|---|-----|-----|
| ア | a-正 | b-正 | イ | a-正 | b-誤 |
| ウ | a-誤 | b-正 | エ | a-誤 | b-誤 |

B

第5代ハンとなったフビライは大都に遷都して、1271年に国号を元とした。1279年には南宋を滅ぼし、事実上中国全土を支配下に入れた。フビライはチベットや朝鮮半島を服属させ、失敗はしたものの、^④ペトナムやジャバ島、日本にも遠征を行った。元の時代、ユーラシアを横断するように【 A 】が激められた。西の交流が活発化したほか、海運も整備されてムスリム商人が交易に活躍し、^⑤世界的なネットワークが形成された。中国支配においては従来の官制を継承する一方、【 B 】と呼ばれる中央アジア、西アジアの官僚を重用し科挙を一時停止するなど、儒学を軽視する政策を行った。また、フビライはチベット仏教に深く傾倒し、僧【 C 】を厚遇した。^⑥元朝は14世紀に入ると衰退し、モンゴル民族は北方の高原へ撤退した。

問3 文中の空欄【 A 】～【 C 】に当てはまる最も適切な語句はどれか。次のア～エのうちから一つずつ選びなさい。

- | | | | | | | | | | |
|-------|---|----------------|---|-----------|--------|-----|---|------|-------|
| 【 A 】 | ア | キャラヴァンサライ | イ | 王の道 | 【 8 】 | | | | |
| | ウ | ジャムチ | エ | ワヤン | | | | | |
| 【 B 】 | ア | 南人 | イ | 色目人 | ウ | 南越人 | エ | ソグド人 | 【 9 】 |
| 【 C 】 | ア | バспа | イ | ツォンカバ | 【 10 】 | | | | |
| | ウ | ラーマ5世 (チュロンゴン) | エ | ダライ=ラマ14世 | | | | | |

問4 文中の下線部④～⑥について、以下の問いに答えなさい。

④ モンゴルの侵攻を退けたベトナムの王朝と、同じくモンゴルの侵攻を食い止めたのち、ジャワ島に成立した王朝の組み合わせとして、正しいものはどれか。次のア～エのうちから一つ選びなさい。

11

- ア 陳朝 — シュリーヴィジャヤ王国
- イ 陳朝 — マジャパヒト王国
- ウ 黎朝 — シュリーヴィジャヤ王国
- エ 黎朝 — マジャパヒト王国

⑤ 世界的なネットワークの形成に関連して、この時代の東西交流について述べた文として、誤っているものはどれか。次のア～エのうちから一つ選びなさい。

12

- ア 元では、イスラームの暦法を用いて郭守敬が授時暦を作成した。
- イ イブン＝バットゥータは世界各地を巡り、『世界の記述』（『東方見聞録』）を口述した。
- ウ 中国絵画の影響を受けて、イスラーム世界でミニアチュール（細密画）が流行した。
- エ ローマ教皇は、プラノ＝カルピニをモンゴル高原に派遣した。

⑥ 元の衰退について述べた次の文の空欄 [a] ・ [b] に当てはまる語句の組み合わせとして、最も適切なものはどれか。下のア～エのうちから一つ選びなさい。

13

チベット仏教に莫大な費用を費やした元の皇室は、国庫増大のため [a] を濫発し、経済が混乱した。14世紀半ばに紅巾の乱が勃発、この反乱で頭角を現した [b] が元を滅ぼした。

- ア [a] — 五銖銭 [b] — 朱全忠
- イ [a] — 五銖銭 [b] — 朱元璋
- ウ [a] — 交鈔 [b] — 朱全忠
- エ [a] — 交鈔 [b] — 朱元璋

〔II〕 次の文章A・Bを読んで、後の問いに答えなさい。

A

16世紀はイベリア半島の世紀であったといえる。スペイン・ポルトガル両王国ともに15世紀までにレコンキスタを完成させて、大航海時代の先陣を切り、海上覇権を握った。

ポルトガル王国は15世紀にアジアへの航路開拓を行った。北アフリカのセウタを攻略したのち、15世紀前半、[A] がアフリカ西岸航路の開拓事業を推進した。ポルトガルは、1488年にアフリカ南端部の [B] に到達した。さらに1498年には、[C] がムスリム商人の水先案内人を従えインドの [D] に達して、ここにインド航路が開かれた。ポルトガルはインドに拠点を築いてさらに東進し、マレー半島に進出すると、ここを香辛料貿易の基地とした。なお、ポルトガル人の勢力は中国南部から日本にまで達した。

問1 文中の空欄 [A] ～ [D] に当てはまる最も適切な語句はどれか。次のア～エのうちから一つずつ選びなさい。

- [A] ア ジョアン2世 **14** イ トスカネリ
- ウ カボット エ 「航海王子」エンリケ
- [B] ア 喜望峯 **15** イ マラッカ海峡
- ウ パナマ地峡 エ セイロン島
- [C] ア マゼラン **16** イ ヴァスコ＝ダ＝ガマ
- ウ バルボア エ バルトロメウ＝ディアス
- [D] ア マリンディ **17** イ カリカット
- ウ クスコ エ ゴア

⑥ スペインのアメリカ大陸進出について述べた次の文 (i) ~ (iii) について、古いものから年代順に正しく配列したものはどれか。下のア～カのうちから一つ選びなさい。

26

- (i) ボルトガルとトルデシリヤス条約を結び、新大陸を分割した。
 (ii) ポトシ銀山が発見された。
 (iii) ピサロが南米のインカ帝国を滅ぼした。

- ア (i) → (ii) → (iii)
 イ (i) → (iii) → (ii)
 ウ (ii) → (i) → (iii)
 エ (ii) → (iii) → (i)
 オ (iii) → (i) → (ii)
 カ (iii) → (ii) → (i)

〔III〕 次の文章A～Cを読んで、後の問いに答えなさい。

A

① 宋代の中国は、異民族に対して弱体ではあったが、一方で社会や文化は大いに発展した。この時代は商業に対する規制が緩み、^②城外でも自由に商店を開けるようになった。北宋の首都【 A 】は水運の要衝として繁栄を極めた。この様子は、張杅の「清明上河図」に描かれている。この画卷には、^④清明節の日に春の訪れを祝い市民がこぞって外出し、軒や橋の欄干に出店が連なる様子が描かれていて、当時の賑わいを読み取ることができるだろう。

問1 文中の空欄【 A 】に当てはまる最も適切な語句はどれか。次のア～エのうちから一つ選びなさい。

27

- ア 洛陽 イ 開封 ウ 臨安 エ 金陵

問2 文中の下線部①～④について、以下の問いに答えなさい。

① 北方諸民族の一つである遼について述べた次の文の空欄 a ・ b に当てはまる語句の組み合わせとして、最も適切なものはどれか。下のア～エのうちから一つ選びなさい。

28

遼では部族制と a にもとづく二重統治体制が採用され、性格の異なる社会をまとめていた。また、中国文化の影響を強く受け、漢字とウイグル文字の影響を受けた b が使用された。

- ア a - 郡県制 b - 女真文字
 イ a - 郡県制 b - 契丹文字
 ウ a - 州県制 b - 女真文字
 エ a - 州県制 b - 契丹文字

② 宋代の社会や文化について述べた文として、誤っているものはどれか。次のア～エのうちから一つ選びなさい。

29

- ア 形勢戸が科学官僚となり、士大夫とよばれる支配者層を形成した。
 イ 商業の発展に伴い、行や作などの同業組合が組織された。
 ウ 黄河流域に占城稻が導入され、「蘇湖熟則天下足」と称された。
 エ 司馬光によって、編年体の史書『資治通鑑』が編纂された。

問5 文中の空欄【 C 】に当てはまる最も適切な語句はどれか。次のア～エのうちから一つ選びなさい。

- ア コルドバ イ グラナダ ウ マドリッド エ ゲルニカ

36

問6 文中の下線部⑧～⑩について、以下の問いに答えなさい。

⑧ 第二次世界大戦の引き金となった、ドイツが侵攻した国はどこか。最も適切なものを、次のア～エのうちから一つ選びなさい。

- ア ベルギー イ ホーランド ウ チェコスロヴァキア エ オランダ

37

⑨ スペイン内戦について述べた次の文の空欄 a・b に当てはまる語句の組み合わせとして、最も適切なものはどれか。下のア～エのうちから一つ選びなさい。

38

スペイン内戦は、人民戦線政府と a を中心とする右派反乱軍の内戦である。ソ連は人民戦線側を、ドイツ・イタリアは右派を支援したため、情勢は混迷を極めた。またこの内戦においてイギリス・フランスは b を行った。

- ア a - フランコ b - 不干渉政策
 イ a - フランコ b - 軍事介入
 ウ a - ド=ゴール b - 不干渉政策
 エ a - ド=ゴール b - 軍事介入

⑩ 当時のドイツ・イタリアの指導者の組み合わせとして、正しいものはどれか。次のア～エのうちから一つ選びなさい。

39

- ア ドイツ - ヒンデンブルク イタリア - マッツイーニ
 イ ドイツ - ヒンデンブルク イタリア - ムッソリーニ
 ウ ドイツ - ヒトラー イタリア - マッツイーニ
 エ ドイツ - ヒトラー イタリア - ムッソリーニ

⑪ 第二次世界大戦後の世界について述べた次の文 a・b の正誤の組み合わせとして、正しいものはどれか。下のア～エのうちから一つ選びなさい。

40

- a ソ連のブレジネフとアメリカのケネディの時代に、キューバ危機が起こった。
 b アメリカのアブシユ（父）とソ連のゴルバチョフによるマルタ会談で、冷戦は終結した。

- ア a - 正 b - 正 イ a - 正 b - 誤
 ウ a - 誤 b - 正 エ a - 誤 b - 誤

世界史

解答番号

1

~

40

【I】 次の文章A～Cを読んで、後の問いに答えなさい。

A

① ユダヤ教やキリスト教の教典とされる『旧約聖書』は、律法、預言書、諸書から成り立っている。このうち律法とは、『創世記』や『出エジプト記』などの五書を指し、その起源は、出エジプトを指導した【A】がシナイ山において神から授けられたものとされる。また、律法は、宗教上・生活上の規範として神ヤハウェがイスラエルの民に課したものであり、絶対的な服従が求められる。この『旧約聖書』がまとめられたのは、【B】によってバビロン捕囚が引き起こされ、イスラエルの民がその民族的苦難から帰還した以降のこととされている。

問1 文中の空欄【A】・【B】に当てはまる最も適切な語句はどれか。次のア～エのうちから一つずつ選びなさい。

- 【A】 ア ダヴィデ王 イ モーセ
- ウ ソロモン王 エ イエス
- 【B】 ア エジプト イ リディア
- ウ 新バビロニア エ メディア

1

2

問2 文中の下線部①・②について、以下の問いに答えなさい。

① ユダヤ教について述べた文として、誤っているものはどれか。次のア～エのうちから一つ選びなさい。

- ア 自分たちだけが救済されるという選民思想を持った。
- イ イスラーム教徒からは「啓典の民」とみなされた。
- ウ 後に中国に伝わり、祇教と呼ばれた。
- エ 救世主（メシア）の出現を待ち望んだ。

3

② イスラエルの民について述べた次の文a・bの正誤の組み合わせとして、正しいものはどれか。下のア～エのうちから一つ選びなさい。

- a アルファベットの起源となる文字を作った。
- b シオニズム運動を展開した。

- ア a-正 b-正 イ a-正 b-誤
- ウ a-誤 b-正 エ a-誤 b-誤

4

B

ギリシア人は、オリエントの先進文明の影響を受けながら、合理的で人間中心的な文化を生み出した。ギリシア人の宗教は多神教で、主神のゼウスや女神のアテナなどのオリンポス12神は、人間と同じ感情や姿形を持つとされた。ギリシアの文学は、そうした神々と人間の関わりを描くところから始まった。【5】が著した『イリアス』、【6】が著した『神統記』などの叙事詩が生まれた。一方、建築物にも神話の影響は見られた。ペリクレスの計画のもと15年をかけて完成したアテナの【7】は、ドリア式の傑作で、内部には彫刻家フェイディアスが制作した【8】が設置された。

問3 文中の空欄【5】～【8】に当てはまる最も適切な語句はどれか。次のア～コのうちから一つずつ選びなさい。

- ア アリストファネス イ プラクシテレス ウ アイスキュロス
- エ ヘシオドス オ サッフオー カ ホメロス
- キ パンテオン ク パルテノン神殿 ケ アテナ女神像
- コ ミロのヴァイーナス

5

6

7

8

C

『史記』は、五帝の伝説の時代から前漢までの歴史をまとめた歴史書であり、本紀（皇帝の事績）と列伝（歴史上活躍した人物の伝記）によって歴史を描く紀伝体と呼ばれる記述のスタイルを確立したことで知られる。著者の【C】は、前漢の武帝の時代の歴史家で、匈奴の捕虜になった李陵をかばったことで武帝の怒りを買ひ、宮刑に処された。しかし、その屈辱に耐え、出獄後に『史記』を完成させた。

問4 文中の空欄【C】に当てはまる最も適切な語句はどれか。次のア～エのうちから一つ選びなさい。

- ア 荀子 イ 班固 ウ 韓非 エ 司馬遷

9

問5 文中の下線部③～⑥について、以下の問いに答えなさい。

③ 前漢に関連した出来事を述べた次の文(i)～(iii)について、古いものから年代順に正しく配列したものはどれか。下のア～カのうちから一つ選びなさい。

- (i) 宦官や外戚が政治の実権を争った。
- (ii) 呉楚七国の乱が起こった。
- (iii) 地方行政制度として郡国制が施行された。

- ア (i) → (ii) → (iii)
 イ (i) → (iii) → (ii)
 ウ (ii) → (i) → (iii)
 エ (ii) → (iii) → (i)
 オ (iii) → (i) → (ii)
 カ (iii) → (ii) → (i)

④ 紀伝体で書かれた書物はどれか。最も適切なものを、次のア～エのうちから一つ選びなさい。

- ア 『資治通鑑』 イ 『漢書』 ウ 『楚辭』 エ 『春秋』

⑤ 武帝の治世について述べた次の文a・bの正誤の組み合わせとして、正しいものはどれか。下のア～エのうちから一つ選びなさい。

- a 改革に反発して赤眉の乱が起きた。
- b 塩・鉄・酒の専売制を実施した。

- ア a - 正 b - 正 イ a - 正 b - 誤
 ウ a - 誤 b - 正 エ a - 誤 b - 誤

⑥ 匈奴について述べた次の文の空欄a・bに当てはまる語句の組み合わせとして、最も適切なものはどれか。下のア～エのうちから一つ選びなさい。

13

前3世紀末から前2世紀にかけて、aのもとで匈奴は全盛期を迎えた。これに対して前漢の武帝は使者をbに派遣して、対匈奴の同盟を結ぼうとした。

- ア a - 冒頓単于 b - 安息
 イ a - 冒頓単于 b - 大月氏
 ウ a - 大秦王安敦 b - 安息
 エ a - 大秦王安敦 b - 大月氏

B 世-5

〔Ⅱ〕 次の文章A～Cを読んで、後の問いに答えなさい。

A

① ムハンマドの死後、大規模な征服活動（ジハード）を開始したアラブ人は、8世紀初めに北アフリカを經由してイベリア半島に進出し、西ゴート王国を滅ぼした。さらに② アッバース朝が建国されると、敗れたウマイヤ朝の一族がイベリア半島に逃れ、この地に王国を建てた。これに対して、西ヨーロッパのキリスト教徒は、国土回復運動（レコンキスタ）と呼ばれるイベリア半島からのムスリム駆逐運動を展開した。この運動は11世紀末から大きく進展し、15世紀半ばまでには③ グラナダを除くイベリア半島のほぼ全域を回復した。そして1492年、④ スペイン王国の攻撃により、ムスリムの最後の拠点となったグラナダは陥落し、国土回復運動が完了した。

問1 文中の下線部①～④について、以下の問いに答えなさい。

- ① ムハンマドについて述べた文として、誤っているものはどれか。最も適切なものを、次のア～エのうちから一つ選びなさい。 **14**
- ア メッカのカーバ神殿をイスラーム教の聖殿とした。
- イ 神の啓示を受けた預言者である。
- ウ 彼の言葉は「コーラン」にまとめられた。
- エ 正統カリフの一人とされる。

② イベリア半島について述べた次の文の空欄 a・b に当てはまる語句の組み合わせとして、最も適切なものはどれか。下のア～エのうちから一つ選びなさい。 **15**

イベリア半島では、756年に a を都とする後ウマイヤ朝が成立し、11世紀にはベルベル人が建設した b が進出した。

- ア a - カイロ b - ムラービド朝
- イ a - カイロ b - ムワッヒド朝
- ウ a - コルドバ b - ムラービド朝
- エ a - コルドバ b - ムワッヒド朝

③ アッバース朝の最盛期のカリフは誰か。最も適切なものを、次のア～エのうちから一つ選びなさい。 **16**

- ア マンスール
- イ トゥグリル=ベク
- ウ アリー
- エ ハールーン=アッラシード

B 世-6

④ グラナダに建設されたスペイン=イスラーム建築の代表的な建造物はどれか。最も適切なものを、次のア～エのうちから一つ選びなさい。 **17**

- ア 凱旋門
- イ ジググラト
- ウ アルハンブラ宮殿
- エ ウマイヤ=モスク

⑤ スペイン王国はどの国との国が統合されて成立したか。その組み合わせとして、正しいものはどれか。次のア～エのうちから一つ選びなさい。 **18**

- ア アラゴン王国 - カステイリア王国
- イ アラゴン王国 - シチリア王国
- ウ ポルトガル王国 - カステイリア王国
- エ ポルトガル王国 - シチリア王国

B

11世紀にイスラーム国家の【A】が東地中海沿岸に進出し、ビザンツ帝国を脅かしたことがきっかけとなって、西欧キリスト教勢力による十字軍が起こされた。ビザンツ皇帝の要請に応じて、教皇ウルバヌス2世は【B】宗教会議を招集して聖地【C】の奪回を呼びかけた。以後、13世紀後半まで7回の大規模な十字軍が行われたが、最終的に聖地はイスラーム教徒の支配下に置かれた。十字軍のうち、第4回はビザンツ帝国のコンスタンティノープルへ兵が向けられたという点で、他の十字軍と異なっている。 **19**

問2 文中の空欄【A】～【C】に当てはまる最も適切な語句はどれか。次のア～エのうちから一つずつ選びなさい。

- 【A】ア アイユブ朝
- イ 奴隸王朝
- ウ マムルーク朝
- エ セルジューク朝
- 【B】ア クレルモン
- イ トリエント
- ウ コンスタンツ
- エ エフェソス
- 【C】ア バグダード
- イ イェルサレム
- ウ アッコ
- エ マラケシュ

問3 文中の下線部⑥について、以下の問いに答えなさい。

- ⑥ 第4回十字軍がビザンツ帝国のコンスタンティノープルを攻撃した背景について述べた次の文の空欄 [a]・[b] に当てはまる語句の組み合わせとして、最も適切なものはどれか。下のア～エのうちから一つ選びなさい。

第4回十字軍は、[a] の商人の要求に迫られてビザンツ帝国のコンスタンティノープルを占領し、[b] を建てた。

- ア [a] - ヴェネツィア [b] - プルガリア帝国
 イ [a] - ヴェネツィア [b] - ラテン帝国
 ウ [a] - フィレンツェ [b] - プルガリア帝国
 エ [a] - フィレンツェ [b] - ラテン帝国

C

フランク王国のカール大帝は、イギリスからアルクインらを宮廷に招いて、ラテン語による文芸復興運動を主導した。この運動を、カール大帝時代の王朝にちなんでカロリング=ルネサンスという。この頃、カトリック教会の権威を確立し、信仰を体系化しようとする試みとしてスコラ学が始まった。さらに十字軍をきっかけに東方のイスラーム圏との交流が促進されるようになると、12世紀には、イスラーム圏からギリシアの古典がもたらされ、ヨーロッパの学問や文芸が発展した。^⑦トマス=アキイナスによるスコラ学の完成はその一例である。

問4 文中の下線部⑦～⑩について、以下の問いに答えなさい。

- ⑦ カール大帝の統治について述べた次の文の空欄 [a]・[b] に当てはまる語句の組み合わせとして、最も適切なものはどれか。下のア～エのうちから一つ選びなさい。

カールは、東方の [a] 人の勢力を撃退して王国を統一すると、ローマ教皇 [b] からローマ皇帝の帝冠を与えられ、西ヨーロッパ中世界の誕生の立役者となった。

- ア [a] - マジャール [b] - グレゴリウス1世
 イ [a] - マジャール [b] - レオ3世
 ウ [a] - アヴァール [b] - グレゴリウス1世
 エ [a] - アヴァール [b] - レオ3世

- ⑧ カトリック教会の歴史について述べた次の文 (i)～(iii) について、古いものから年代順に正しく配列したものはどれか。下のア～カのうちから一つ選びなさい。

- (i) ローマ教皇が補らえられるアナニニ事件が起きた。
 (ii) 教皇と神聖ローマ皇帝の間で叙任権闘争が起きた。
 (iii) モンテ=カシノに修道院が設立された。

- ア (i) - (ii) - (iii)
 イ (i) - (iii) - (ii)
 ウ (ii) - (i) - (iii)
 エ (ii) - (iii) - (i)
 オ (iii) - (i) - (ii)
 カ (iii) - (ii) - (i)

- ⑨ スコラ学について述べた次の文 a・b の正誤の組み合わせとして、正しいものはどれか。下のア～エのうちから一つ選びなさい。

- a アンセルムスは、実在論を唱えた。
 b スコラ学の学者は教父と呼ばれた。

- ア a - 正 b - 正 イ a - 正 b - 誤
 ウ a - 誤 b - 正 エ a - 誤 b - 誤

- ⑩ ギリシアの哲学者のうち、スコラ学の大成に影響を与えた人物は誰か。最も適切なものを、次のア～エのうちから一つ選びなさい。

- ア ソクラテス イ アリストテレス ウ タレス エ ピタゴラス

- ⑪ トマス=アキイナスの著作はどれか。最も適切なものを、次のア～エのうちから一つ選びなさい。

- ア 『告白録』 イ 『世界史序説』 ウ 『神学大全』 エ 『ローランの歌』

B世-9

〔Ⅲ〕 次の文章A～Cを読んで、後の問いに答えなさい。

A

① 列強による国土の分割が進む中国では、清朝の打倒を目指す革命運動が盛んになり、1911年に辛亥革命が起った。翌1912年1月、アジアで最初の共和政国家である中華民国が建国された。このとき清朝最後の皇帝となった宣統帝の退位を主導し、孫文から臨時大統領の地位を譲り受けた人物が【A】である。その後、【A】は正式に大統領となり、独裁的な統治を行った。

1914年に第一次世界大戦が勃発すると、中国における勢力拡大を目指す日本軍の侵入を受け、中国の対日感情は急速に悪化した。大戦下の中国知識人の間では、辛亥革命以降の政治の混乱に失望した人々による文学革命と呼ばれる啓蒙運動が起った。大戦は1919年のパリ講和会議で収束したが、中国の要求は拒否され、大規模な民衆運動へと発展した。

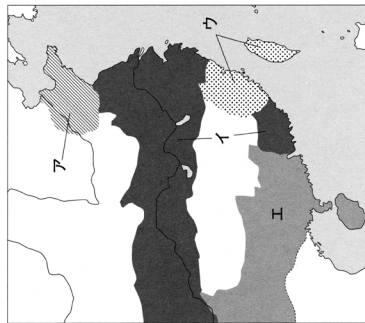
問1 文中の空欄【A】に当てはまる最も適切な語句はどれか。次のア～エのうちから一つ選びなさい。

- ア 梁啓超 イ 曾國藩 ウ 袁世凱 エ 林則徐

28

問2 文中の下線部①～④について、以下の問いに答えなさい。

① 次の地図は、東アジアにおける列強の勢力圏を示している。このうちドイツの勢力範囲として正しいものを、地図中のア～エのうちから一つ選びなさい。



29

B世-10

② 辛亥革命に関わる出来事について述べた次の文(i)～(iii)について、古いものから年代順に正しく配列したものはどれか。下のア～カのうちから一つ選びなさい。

30

- (i) 孫文が革命諸団体を結集して中国同盟会を組織した。
 (ii) 武昌において、軍隊の中にいた革命派が挙兵した。
 (iii) 清朝が民営化されていた幹線鉄道の国有化を決定した。

- ア (i) → (ii) → (iii)
 イ (i) → (iii) → (ii)
 ウ (ii) → (i) → (iii)
 エ (ii) → (iii) → (i)
 オ (iii) → (i) → (ii)
 カ (iii) → (ii) → (i)

③ 文学革命について述べた次の文a・bの正誤の組み合わせとして、正しいものはどれか。下のア～エのうちから一つ選びなさい。

31

- a 胡適が雑誌『新青年』を刊行した。
 b 魯迅が『阿Q正伝』などの小説を発表した。

- ア a-正 b-正 イ a-正 b-誤
 ウ a-誤 b-正 エ a-誤 b-誤

④ ハリ講和会議に対する中国の反応について述べた次の文の空欄a・bに当てはまる語句の組み合わせとして、最も適切なものはどれか。下のア～エのうちから一つ選びなさい。

32

列強によって要求を退けられた中国では、北京で起こった抗議運動をきっかけにaに発展した。そのため中国政府はb条約の調印を拒否せざるを得なかった。

- ア a-五・四運動 b-ベルリン
 イ a-五・四運動 b-ヴェルサイユ
 ウ a-三・一独立運動 b-ベルリン
 エ a-三・一独立運動 b-ヴェルサイユ

B 第一次世界大戦後、中国は国際連盟の原加盟国となって国際的な地位向上につとめ、また、ワシントン会議に出席して中国に関する諸問題の解決を目指した。

一方国内では、1919年に孫文を指導者とする中国国民党が成立し、また1921年には陳独秀を指導者と呼ぶる中国共産党が成立した。両党は、ソ連のコミンテルンの支援によって接近し、一時的に国共合作と呼ばれる政治的提携を結び、国民党が中心となって【 B 】に国民党政府を樹立した。しかし、国民党と共産党は次第に対立を深め、軍閥の打倒を目指した北伐の途上で国民党が起ちした反共クーデタがきっかけとなって、国共合作は崩壊した。

問3 文中の空欄【 B 】に当てはまる最も適切な語句はどれか。次のア～エのうちから一つ選びなさい。

- ア 広州
 - イ 北京
 - ウ 重慶
 - エ 上海
- 33
- 問4 文中の下線部⑤・⑥について、以下の問いに答えなさい。

⑤ ワシントン会議において、中国の主権尊重や領土保全を約束した条約はどれか。最も適切なものを、次のア～エのうちから一つ選びなさい。

- ア ヴェルサイユ条約
 - イ 四カ国条約
 - ウ 九カ国条約
 - エ 不戦条約
- 34
- ⑥ コミンテルンについて述べた次の文 a・b の正誤の組み合わせとして、正しいものはどれか。下のア～エのうちから一つ選びなさい。

- a マルクスが創設した。
 - b ファシズムに反対し、人民戦線の結成を唱えた。
- ア a - 正 b - 正
 - イ a - 正 b - 誤
 - ウ a - 誤 b - 正
 - エ a - 誤 b - 誤
- 35

C 1930年代に入ると、日本の軍事行動の拡大を機に中国国内で抗日の気運が高まったが、中国の国民党政府は日本の軍事行動への対応よりも、共産党との戦いを優先させたことから西安事件を招いた。事件後、再び接近した国民党と共産党は第2次国共合作を成立させ、日本との全面的な交戦状態に入った。日本の降伏で第二次世界大戦が終わると、中国国内では国民党と共産党との内戦が再開し、農民の支持を得た共産党が勝利して【 C 】を主席とする中華人民共和国を建国した。共産圏への所属を明らかにした中国は【 C 】の指導のもと急激な社会主義建設を目指す運動【 D 】を展開したが、性急な施策が大量の犠牲者を出す結果となり、失敗に終わった。

問5 文中の空欄【 C 】・【 D 】に当てはまる最も適切な語句はどれか。次のア～エのうちから一つずつ選びなさい。

- 【C】 ア 毛沢東
 - イ 汪兆銘
 - ウ 劉少奇
 - エ 李登輝
 - 【D】 ア 「四つの現代化」
 - イ 「大躍進」
 - ウ プロレタリア文化大革命
 - エ 天安門事件
- 36
- 37

問6 文中の下線部⑦～⑩について、以下の問いに答えなさい。

⑦ 西安事件について述べた次の文の空欄【 a 】・【 b 】に当てはまる語句の組み合わせとして、最も適切なものはどれか。下のア～エのうちから一つ選びなさい。

- 中国共産党が、【 a 】を出して内戦の停止と民族統一戦線の結成を呼びかけると、西安にいた【 b 】は、国民党の指導者を捕らえて、抗日と内戦停止を説得した。
- ア 【a】-十月宣言
 - 【b】-張作霖
 - イ 【a】-十月宣言
 - 【b】-張学良
 - ウ 【a】-八・一宣言
 - 【b】-張作霖
 - エ 【a】-八・一宣言
 - 【b】-張学良
- 38

⑧ 中国史上の内戦について述べた次の文 a・b の正誤の組み合わせとして、正しいものはどれか。下のア～エのうちから一つ選びなさい。

- a 清の統治に対し、呉三桂らが三藩の乱を起こした。
 - b 太平天国は、「扶清滅洋」を唱えて清朝打倒を目指した。
- ア a - 正 b - 正
 - イ a - 正 b - 誤
 - ウ a - 誤 b - 正
 - エ a - 誤 b - 誤
- 39

⑨ 中華人民共和国について述べた文として、正しいものはどれか。次のア～エのうちから一つ選びなさい。

- ア 東南アジア諸国連合 (ASEAN) に加盟した。
 - イ 朝鮮戦争では大韓民国を支援した。
 - ウ 周恩来は、エジプトのナセルと会談し平和五原則を発表した。
 - エ 中ソ友好同盟相互援助条約に調印した。
- 40

世界史おわり 解答番号 1 ~ 40



MEMO

A series of horizontal dotted lines for writing.



小論文試験問題



出題大学の【語群A】と【語群B】からそれぞれ1語を使用して現代の課題を示し、その課題に対するあなたの考えを出願学科(桃山学院教育大学は出願コース)の学びに関連付けて400字以上600字以内で論じなさい。また使用した語を、下の欄に記入しなさい(各語群から2語以上を使用しても減点にはなりません)。

〈桃山学院大学〉

語群A	語群B
異文化理解、外国人観光客、接続可能な社会、 人口減少社会、高齢化社会、児童虐待、 法の下での平等、働き方改革、経済成長、 財政問題、地域活性化、 従業員のモチベーション	捕鯨問題、東京オリンピック、 貧困問題、限界集落、老老介護、 養子縁組、性的少数者、時間外労働、 移民政策、消費税増税、人材育成、 ストック・オプション

〈桃山学院教育大学〉

語群A	語群B
生きる力、保育所、幼稚園、小学校、 福祉施設、大阪、保護者、スポーツ、 接続可能な社会、地域社会	人間関係、待機児童、発表会、 外国語活動、児童虐待、ブラック企業、 トラブル対応、ラグビーW杯、 地球温暖化、ワーク・ライフ・バランス



解答例



数学

解答番号	11/11	11/12	12/7	2/3
1	ウ	カ	エ	エ
2	オ	キ	ウ	ア
3	エ	カ	オ	イ
4	ウ	オ	イ	キ
5	キ	ケ	ク	オ
6	イ	オ	オ	エ
7	ウ	キ	イ	イ
8	ケ	エ	ケ	カ
9	イ	エ	イ	コ
10	コ	キ	ケ	ウ
11	オ	カ	イ	ウ
12	カ	オ	カ	キ
13	エ	コ	イ	ウ
14	オ	ウ	エ	カ
15	コ	カ	カ	エ
16	ウ	ウ	エ	カ
17	オ	エ	ウ	オ
18	イ	ウ	エ	イ
19	キ	ケ	イ	イ
20	オ	エ	エ	オ
21	コ	ウ	ウ	キ
22	イ	オ	イ	イ
23	ク	イ	エ	ウ
24	コ	ウ	オ	エ
25	ケ	エ	イ	イ
26	コ	オ	ウ	ア
27	カ	ウ	イ	ウ
28	イ	ク	ア	キ
29	キ	イ	カ	イ
30	オ	ウ	カ	ア
31	エ	ア	カ	エ
32	エ	エ	オ	ク
33	オ	イ	ウ	ケ
34	エ	ア	カ	イ
35	エ	イ	ケ	ウ
36	キ	エ	カ	ウ
37	ウ	ウ	カ	ク
38	ウ	ア	オ	ク
39	ウ	エ	オ	コ
40	キ	イ	コ	ウ
41	オ	ア	カ	ウ
42	オ	イ	ウ	ウ
43	エ	ウ	イ	ク
44	オ	イ	ケ	ウ
45	ウ	オ	イ	ケ
46	ア	エ	オ	オ
47	イ	ケ	イ	コ
48	カ	イ	キ	ア
49	コ	エ	ク	ケ
50	ア	キ	ウ	オ
51	カ	エ	オ	ア
52	オ	イ	イ	キ
53	ウ	オ	エ	ク
54	オ	イ		ウ
55		オ		

解答例

日本史

解答番号	2/2	2/4	2/24
1	ウ	イ	イ
2	イ	ウ	ア
3	イ	ウ	エ
4	エ	エ	ア
5	ウ	ウ	ウ
6	ア	イ	ア
7	ア	ア	エ
8	ウ	エ	ウ
9	イ	ア	ア
10	エ	エ	ウ
11	エ	ク	イ
12	ウ	ケ	ア
13	ウ	イ	エ
14	イ	オ	ア
15	ア	イ	ウ
16	ウ	ア	イ
17	イ	エ	エ
18	エ	ウ	エ
19	ア	ウ	ウ
20	ウ	ア	イ
21	イ	ウ	エ
22	ア	ウ	イ
23	ウ	エ	ウ
24	ア	イ	ア
25	エ	エ	ア
26	イ	イ	エ
27	エ	エ	ア
28	エ	ア	ア
29	ア	ウ	イ
30	イ	イ	ウ
31	イ	エ	コ
32	ア	ア	キ
33	ウ	ウ	イ
34	エ	イ	ケ
35	ウ	ウ	オ
36	エ	ア	イ
37	ア	ウ	エ
38	ウ	イ	ウ
39	イ	ウ	ウ
40	オ	オ	ア

世界史

解答番号	2/2	2/3	2/24
1	ウ	コ	イ
2	ア	オ	ウ
3	エ	ウ	ウ
4	ア	イ	ウ
5	エ	エ	カ
6	ウ	イ	エ
7	ウ	ア	ク
8	イ	ウ	ケ
9	イ	イ	エ
10	ウ	ア	カ
11	エ	イ	イ
12	ア	イ	ウ
13	イ	エ	イ
14	イ	エ	エ
15	エ	ア	ウ
16	ア	イ	エ
17	ア	イ	ウ
18	イ	ア	ア
19	ア	イ	エ
20	イ	ウ	ア
21	イ	エ	イ
22	ウ	ウ	イ
23	ア	ウ	エ
24	エ	エ	カ
25	エ	イ	イ
26	イ	イ	イ
27	エ	イ	ウ
28	ア	エ	ウ
29	イ	ウ	ア
30	エ	ア	イ
31	エ	エ	ウ
32	カ	ア	イ
33	ク	エ	ア
34	エ	エ	ウ
35	オ	イ	ウ
36	イ	エ	ア
37	エ	イ	イ
38	エ	ア	エ
39	ウ	エ	イ
40	エ	ウ	エ

MEMO

A series of horizontal dotted lines for writing.

<大学受験パスナビ 桃山学院大学ページ>

https://passnavi.evidus.com/search_univ/4350/kakomon.html

※桃山学院大学、桃山学院教育大学の過去問題掲載



桃山学院大学
St. Andrew's University

〒594-1198 大阪府和泉市まなび野1番1号

TEL.0725-54-3245(入試課直通) / 0725-54-3131(代) FAX.0725-54-3204

<https://www.andrew.ac.jp/> / [✉nyushi@andrew.ac.jp](mailto:nyushi@andrew.ac.jp)



桃山学院教育大学
St. Andrew's University of Education

〒590-0114 大阪府堺市南区横塚台4-5-1

TEL.072-247-5605(入試課直通) / 072-288-6655(代) FAX.072-288-6656

<https://www.andrew-edu.ac.jp/> / [✉nyushi@andrew-edu.ac.jp](mailto:nyushi@andrew-edu.ac.jp)